



**PREFEITURA MUNICIPAL DE TATUÍ  
ESTADO DE SÃO PAULO**

**CONCURSO PÚBLICO Nº 02/2019**

**AUXILIAR DE SERVIÇOS GERAIS  
(FEMININO)**

---

**CADERNO DE  
QUESTÕES**

---

**ABRA SOMENTE QUANDO AUTORIZADO**

---

**Nome do Candidato:** \_\_\_\_\_

**Assinatura:** \_\_\_\_\_

**Concurso Realizado pela:**



**Planexcon**  
ASSESSORIA E CONSULTORIA PÚBLICA

**Contato**

[concurso@planexcon.com.br](mailto:concurso@planexcon.com.br)

Tel.0xx15 3282.3542

## **INSTRUÇÕES**

1. Este Caderno contém 07 páginas com questões de múltipla escolha, assim distribuídas:
  - **Língua Portuguesa**, com 15 questões, enumeradas de 01 a 15;
  - **Matemática**, com 15 questões, enumeradas de 16 a 30;
  - **Conhecimentos Gerais**, com 10 questões, enumeradas de 31 a 40.
2. Cada questão contém 5 (cinco) alternativas (a, b, c, d, e), das quais somente uma atende às condições do enunciado.
3. Esta prova terá a duração de 3 (três) horas, incluído o tempo necessário para preenchimento do Gabarito de Resposta, sendo permitida a saída do candidato da sala de prova somente após 30 minutos do seu início.
4. Responda a todas as questões. Para cômputo da nota, serão considerados apenas os acertos.
5. Não será permitido ao candidato o destaque de qualquer página da prova.
6. Não é permitido, em hipótese alguma, o empréstimo de qualquer objeto.
7. Não se atenha às questões que julgar difíceis, volte a elas se lhe sobrar tempo.
8. Estando as questões respondidas neste caderno, você deverá transcrever todas as alternativas assinaladas para o Gabarito de Respostas, utilizando caneta esferográfica de tinta preta ou azul.
9. Você receberá do Fiscal o Gabarito de Respostas. Verifique se estão em ordem e com todos os dados impressos corretamente. Caso contrário, notifique o Fiscal, imediatamente.
10. Após certificar-se de que a Gabarito de Respostas é seu, assine-o com caneta esferográfica de tinta preta ou azul no local em que há a indicação: "ASSINATURA DO (A) CANDIDATO (A)".
11. A folha de respostas não deve ser dobrada, amassada ou rasurada.
12. É de inteira responsabilidade do candidato qualquer prejuízo advindo de marcação incorreta efetuada no Gabarito de Respostas - Atenção: **O Gabarito de Respostas não será substituído em hipótese alguma.**
13. Serão nulas as respostas rasuradas ou múltiplas para uma mesma questão.

***Boa Prova!***

## LÍNGUA PORTUGUESA

Leia o texto abaixo para responder as questões de 01 a 05



### QUESTÃO 01

Na tirinha acima, o assunto tratado pelo autor é sobre brincadeira:

- a) De vários assuntos.
- b) De governo.
- c) De perguntas e respostas.
- d) E desordens.
- e) E queixas da mãe de Mafalda.

### QUESTÃO 02

A finalidade do texto acima apresentado é:

- a) Promover ordem.
- b) Trazer contribuições e dúvidas ao leitor.
- c) Apontar modos de como se faz uma reunião.
- d) Mostrar que governo é coisa para todos.
- e) Produzir humor.

### QUESTÃO 03

O sentido que Mafalda e seus amigos atribuem à palavra "**governo**" é o de que ela significa:

- a) Algo muito sério e assemelha-se a religião.
- b) Tolerância à bagunça.
- c) Grande responsabilidade.
- d) Algo que não funciona, nem apresenta resultados.
- e) Prestígio e qualidade de serviços.

### QUESTÃO 04

Na oração: "**Não se preocupe, não vamos fazer absolutamente nada**" com relação ao sujeito podemos afirmar que ele é:

- a) Oculto.
- b) Simples.
- c) Composto.
- d) Indeterminado.
- e) Inexistente, pois a oração não possui sujeito.

### QUESTÃO 05

Os vocábulos "**brincando/ governo/ absolutamente**", presentes na tirinha pertencem pela ordem em que aparecem à classe gramatical:

- a) Verbo/advérbio/substantivo.
- b) Adjetivo/advérbio/substantivo.
- c) Verbo/substantivo/advérbio.
- d) Adjetivo/verbo/substantivo.
- e) Substantivo/verbo/advérbio.

Leia o texto abaixo para responder as questões de 06 a 10

Em uma sala de observação em um sanatório, vários loucos passavam por um teste para verificar se já estavam preparados para viver numa sociedade. De repente, um dos loucos desenha uma porta na parede e começa a agitar uma fuga:

- Pessoal, olha! Uma porta, vamos fugir!

Os loucos iam todos em direção à falsa porta e davam com a cara na parede. Nenhum deles escapou. O médico responsável, surpreso, virou-se para o louco que desenhara a porta e disse:

- Parabéns, você mostrou que é capaz de enganar as pessoas, e com isso percebo que você já está recuperado. O louco retruca:

- É verdade, doutor, eu enganei eles; a chave tá comigo...

<http://www.portaldohumor.com.br/cont/piadas/3930/Recuprecao.html>

### QUESTÃO 06

O diálogo entre o médico e o louco, através das palavras finais do louco: "**É verdade, doutor, eu enganei eles; a chave tá comigo...**", atestou:

- a) A vontade do louco em permanecer no sanatório.

**Caderno de Questões**  
**AUXILIAR DE SERVIÇOS GERAIS (FEMININO)**

- b) A insanidade do louco.
- c) A sanidade do louco.
- d) A vingança do louco para com seus colegas.
- e) O desejo do louco em ajudar o pessoal.

**QUESTÃO 07**

“Em uma sala de observação em um **sanatório**”, o vocábulo sublinhado significa:

- a) Relicário.
- b) Templo.
- c) Escola.
- d) Asilo.
- e) Manicômio.

**QUESTÃO 08**

As letras destacadas nos vocábulos **passavam**, **desenha**, **olha**, utilizados na piada, são classificadas como:

- a) Ditongos crescentes.
- b) Ditongos decrescentes.
- c) Tritongos.
- d) Dígrafos.
- e) Hiatos.

**QUESTÃO 09**

Analise as palavras contidas no quadro, quanto à classificação da sílaba tônica:

Item	Palavras	Classificação
1	Sanatório	Proparoxítona
2	Vários	Paroxítona
3	Médico	Proparoxítona
4	Responsável	Paroxítona
5	Você	Oxítona

Estão corretos os itens:

- a) 1, 2, 3, 4 e 5.
- b) 1, 2, 3 e 4.
- c) 2, 3, 4 e 5.
- d) 2 e 4.
- e) 3 e 5.

**QUESTÃO 10**

Na frase: “**É verdade, doutor, eu enganei eles; a chave tá comigo...**”, os três pontinhos apresentados no final são denominados:

- a) Reticências.
- b) Parênteses.
- c) Travessão.
- d) Aspas.
- e) Ponto final.

Leia o texto abaixo para responder as questões de 11 a 13

**Como é Feito o Vidro**

O processo de produção do vidro lembra um pouco a preparação de um bolo. O primeiro passo é juntar os ingredientes: 70% de areia (retirada de locais como fundo de lagos), 14% de sódio, 14% de cálcio e outros 2% de componentes químicos. Os ingredientes são misturados e seguem para um forno industrial, que atinge temperaturas de até 1500°C! A mistura passa algumas horas no forno até se fundir, virando um material meio líquido. Ao sair do forno, a mistura que dá origem ao vidro é uma gosma viscosa e dourada, que lembra muito o mel. Ela escorre por canaletas em direção a um conjunto de moldes. A dosagem para cada molde é controlada conforme o tamanho do vidro a ser criado. O primeiro molde serve apenas para dar o contorno inicial do objeto. A esta altura, o tal “mel” está com a temperatura de cerca de 1200°C. O formato do molde primário deixa uma bolha de ar dentro da mistura incandescente. O objeto segue então para um molde final e uma espécie de canudo é inserido na bolha. Pelo canudo, uma máquina injeta ar, moldando o líquido até ele ganhar o contorno definitivo – como o de uma garrafa de vidro. Ao final da etapa anterior, a temperatura do vidro já caiu para uns 600°C e o objeto começa a ficar rígido, podendo ser retirado do molde. Só resta agora o chamado recozimento: o vidro é deixado para resfriar. No caso de uma garrafa, isso só dura uma hora. Depois disso, ele está pronto para ser usado.

*<https://super.abril.com.br/mundo-estranho/como-e-feito-o-vidro/>*

**QUESTÃO 11**

A finalidade do texto “**Como é feito o vidro**” é:

- a) Apresentar a temperatura do forno industrial.
- b) Mencionar os ingredientes que compõem o vidro.
- c) Descrever as características do vidro.
- d) Enumerar os perigos que o forno industrial oferece.
- e) Informar como é feito o vidro.

Caderno de Questões  
AUXILIAR DE SERVIÇOS GERAIS (FEMININO)

**QUESTÃO 12**

O texto apresenta quatro ingredientes utilizados para a fabricação do vidro. Os três primeiros ingredientes pertencem à classe gramatical denominada:

- a) Substantivo.
- b) Adjetivo.
- c) Verbo.
- d) Numeral.
- e) Advérbio.

**QUESTÃO 13**

Leia as orações abaixo:

O **primeiro** molde serve apenas para dar o contorno **inicial** do objeto.

Pelo canudo, uma máquina injeta ar, moldando o **líquido** até ele ganhar o contorno **definitivo**.

As palavras destacadas, pela ordem em que se apresentam, têm como antônimos:

- a) Principal /Derradeiro/Úmido/Efêmero.
- b) Anterior/Último/claro/Transitório.
- c) Antecedente/Terminal/Fluído.
- d) Último/Final/ Gasoso/Provisório.
- e) Principal/Último/Alvo/Provisório.

Leia o texto abaixo para responder as  
questões 14 e 15



**QUESTÃO 14**

Na oração a palavra "sou" é classificada como:

- a) Substantivo.
- b) Artigo.
- c) Verbo.
- d) Pronome.
- e) Adjetivo.

**QUESTÃO 15**

Na oração "Me explica como tem um cabelo na tua sopa, se eu sou careca" o termo sublinhado pertence a mesma classe morfológica que o sublinhado na oração


abaixo:

- a) Maria e Júlia **foram** embora.
- b) **Ele** gostou muito do filme.
- c) Isto faz bem para a **saúde**.
- d) Não pretendo interferir nos **seus** planos.
- e) Foi ele **quem apresentou** o vendedor.

**MATEMÁTICA**

**QUESTÃO 16**

Observe as figuras abaixo. Pela ordem em que aparecem, elas representam polígonos denominados:



- a) Quadrilátero/hexágono/pentágono.
- b) Pentágono/heptágono/triângulo.
- c) Quadrilátero/octógono/eneágono.
- d) Pentágono/octógono/triângulo.
- e) Quadrado/eneágono/triângulo.

**QUESTÃO 17**

Maria mora em uma chácara quadrada cuja área é igual a  $6.084 \text{ m}^2$ . Assim sendo, a medida de cada lado é igual a:

- a) 84 m.
- b) 81 m.
- c) 78 m.
- d) 68 m.
- e) 60 m.

**QUESTÃO 18**

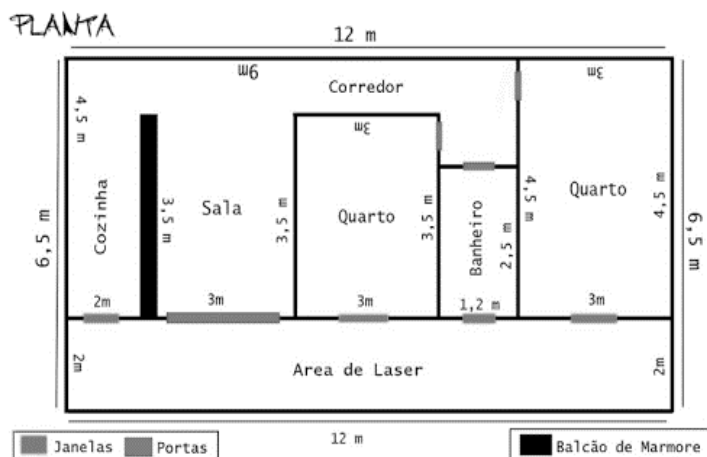
Mariana foi ao supermercado comprar produtos para o café. Colocou no carrinho um pacote de açúcar de 5 quilos e um de pó de café e gastou R\$14,00. Se comprasse um pacote de açúcar e dois pacotes de pó de café ela gastaria R\$ 18,00. E se resolvesse comprar três pacotes

**Caderno de Questões**  
**AUXILIAR DE SERVIÇOS GERAIS (FEMININO)**

de açúcar e dois pacotes de pó de café, qual seria o valor da compra de Mariana:

- a) R\$22,00.
- b) R\$26,00.
- c) R\$30,00.
- d) R\$34,00.
- e) R\$38,00.

**QUESTÃO 19**



O banheiro da planta representado acima mede 2,5 m de comprimento por 1,2 m de largura, conforme mostra a planta. Qual é a área do banheiro:

- a) 2 m<sup>2</sup>.
- b) 3 m<sup>2</sup>.
- c) 3,10 m<sup>2</sup>.
- d) 3,40 m<sup>2</sup>.
- e) 3,70 m<sup>2</sup>.

**QUESTÃO 20**

Guilherme plantou árvores frutíferas num terreno quadrado cuja área é de 441 m<sup>2</sup>. Pretende cercá-lo com 3 voltas de arame. Assim sendo, quantos metros de arame ele utilizará:

- a) 1.323 m.
- b) 1.320 m.
- c) 882 m.
- d) 252 m.
- e) 240 m.

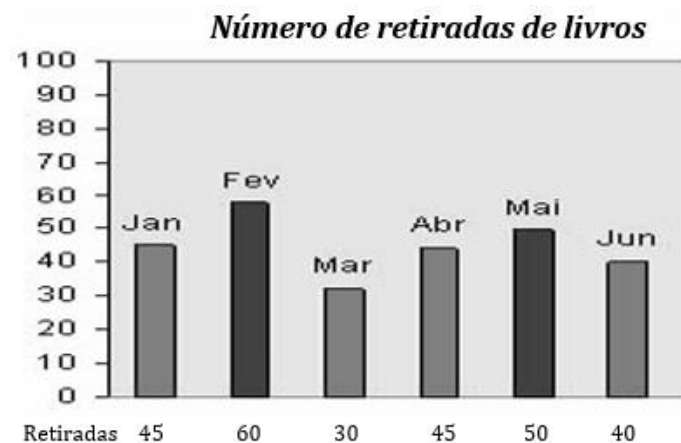
**QUESTÃO 21**

Juliano aluga um determinado local onde funciona seu estabelecimento comercial. Até o mês de abril ele pagou aluguel no valor de R\$ 1.200,00 por mês e, a partir de maio pagará R\$ 1.386,00 por mês. A porcentagem

de aumento no aluguel será de:

- a) 15,5%.
- b) 15%.
- c) 13%.
- d) 12%.
- e) 11%.

**QUESTÃO 22**



Em uma biblioteca de um pequeno município, as retiradas de livros de janeiro a junho foram representadas no gráfico acima. Assim sendo, qual a média aritmética de retiradas durante esses meses:

- a) 58.
- b) 56.
- c) 51.
- d) 47.
- e) 45.

**QUESTÃO 23**

Juliana aplicou R\$ 690,00 por 4 anos a uma taxa de juro simples de 8% a.a. A quantia a ser obtida ao final desses 4 anos será de:

- a) R\$ 966,00.
- b) R\$ 952,00.
- c) R\$ 910,80.
- d) R\$ 897,00.
- e) R\$ 896,00.

**QUESTÃO 24**

Na compra de um carro em sociedade, Antônio investiu R\$ 34.200,00 e Marcos R\$ 55.800,00. Depois de algum tempo resolveram vender o veículo por R\$ 75.000,00. Qual foi a quantia que cada um deles perdeu:

- a) Antônio perdeu R\$ 5.200,00 e Marcos perdeu R\$ 9.800,00.

**Caderno de Questões**  
**AUXILIAR DE SERVIÇOS GERAIS (FEMININO)**

- b) Antônio perdeu R\$ 5.700,00 e Marcos perdeu R\$ 9.300,00.
- c) Antônio perdeu R\$ 6.100,00 e Marcos perdeu R\$ 8.900,00.
- d) Antônio perdeu R\$ 6.700,00 e Marcos perdeu R\$ 8.300,00.
- e) Antônio perdeu R\$ 5.500,00 e Marcos perdeu R\$ 9.500,00.

**QUESTÃO 25**



No cercado acima, a seta mede 2 m. Considerando  $\pi = 3,14$ , quantos metros tem o cercado:

- a) 8,42 m.
- b) 9,28 m.
- c) 10,61 m.
- d) 12,56 m.
- e) 13,28 m.

**QUESTÃO 26**

Paulo gastou 37% do total que ganhou de sua mãe para comprar uma camiseta e ainda ficou com R\$ 126,00. Qual foi a quantia que Paulo ganhou:

- a) R\$ 200,00.
- b) R\$ 198,00.
- c) R\$ 196,00.
- d) R\$ 184,00.
- e) R\$ 182,00.

**QUESTÃO 27**

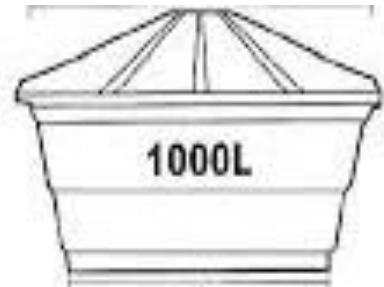
Marília tinha um pacote de figurinhas e resolveu reparti-lo com seus três vizinhos em 3 partes diretamente proporcionais a 5, 7 e 13. Qual é o número de figurinhas que Marília tinha e quanto o segundo e terceiro receberam se o primeiro recebeu um total de 25 figurinhas:

- a) Marília tinha 135 figurinhas. O segundo recebeu 45 e o terceiro 65 figurinhas.
- b) Marília tinha 127 figurinhas. O segundo

- recebeu 36 e o terceiro 66 figurinhas.
- c) Marília tinha 129 figurinhas. O segundo recebeu 37 e o terceiro 67 figurinhas.
- d) Marília tinha 131 figurinhas. O segundo recebeu 39 e o terceiro 67 figurinhas.
- e) Marília tinha 125 figurinhas. O segundo recebeu 35 e o terceiro 65 figurinhas.

**QUESTÃO 28**

A caixa d'água abaixo estava cheia. No sábado e no domingo foram gastos  $\frac{4}{10}$  desse volume. Quantos litros de água sobraram na caixa:



- a) 900 l.
- b) 800 l.
- c) 840 l.
- d) 600 l.
- e) 500 l.

**QUESTÃO 29**

Se o preço de 4,5 m de fita é R\$ 22,50, com R\$ 65,00 poderão ser comprados um total de quantos metros de fita:

- a) 14.
- b) 13.
- c) 12.
- d) 11.
- e) 10.

**QUESTÃO 30**

Uma entidade de caridade está rifando uma bicicleta cuja rifa contém 100 números. Luiz comprou 4 números e a probabilidade dele ganhar a bicicleta é de:

- a) 6%.
- b) 5%.
- c) 4%.
- d) 3%.
- e) 2%.

**CONHECIMENTOS GERAIS**

**QUESTÃO 31**



**Caderno de Questões**  
**AUXILIAR DE SERVIÇOS GERAIS (FEMININO)**

Considere as assertivas abaixo elencadas e assinale V para a verdadeira e F para a falsa:

- (        ) A população de Tatuí, estimada em 2018 foi de 120.533 pessoas.  
(        ) A densidade demográfica [2010] atingiu 205,03 hab/km<sup>2</sup>.  
(        ) O gentílico de Tatuí é denominado "Tatuiense" ou "Tatuiano" indiferentemente.

As assertivas são, respectivamente, de cima para baixo:

- a) V/F/V.  
b) F/F/F.  
c) V/V/V.  
d) F/V/F.  
e) V/F/F.

**QUESTÃO 32**

Entre as características do município de Tatuí, assinale a alternativa *incorreta*:

- a) A fundação do município de Tatuí corresponde à 11 de agosto de 1826.  
b) Tatuí pertence à Região Metropolitana de Sorocaba.  
c) É reconhecida como "Capital da Música" por lei estadual.  
d) São rios que banham o município de Tatuí: Rio Tatuí, Rio Sarapuí, Rio Sorocaba.  
e) Os Municípios limítrofes de Tatuí são: ao Norte: Cesário Lange e Cerquilha; ao Sul: Itapetininga e Alambari; à Leste: Guareí e Quadra; à Oeste: Boituva, Iperó e Capela do Alto.

**QUESTÃO 33**

Atualmente, Tatuí, além das atividades agrícolas e de serviços, vem se destacando no campo industrial, atraindo novas indústrias, principalmente do ramo automotivo. É também conhecida como a cidade:

- a) Do milho verde.  
b) Dos doces caseiros.  
c) Da castanha.  
d) Do verde.  
e) Industrial.

**QUESTÃO 34**

Considere as assertivas abaixo elencadas e assinale V para a verdadeira e F para a falsa:

- (        ) A Bandeira Oficial do Município de Tatuí é representada pelo Brasão, com fundo branco.

(        ) No listão azul inscreve-se em letras de ouro a divisa da cidade - PER ARDVA SURREXI (do latim: "Venceu pelo próprio esforço").

(        ) O tatu e o rio constituem as armas falantes da cidade, traduzindo a etimologia da palavra Tatuhy.

(        ) A lua crescente é o símbolo de Nossa Senhora da Conceição, padroeira da cidade.

As afirmativas são, respectivamente, de cima para baixo:

- a) V, V, V, V.  
b) F, F, V, V.  
c) V, V, F, F.  
d) F, V, F, V.  
e) V, V, F, V.

**QUESTÃO 35**

Acusado de ter recebido propina da empreiteira Odebrecht, o ex-presidente do Peru, 69 anos, cometeu suicídio durante uma tentativa da polícia de prendê-lo na quarta-feira, 14/4. A Justiça peruana havia pedido a prisão preventiva dele por dez dias. A acusação era de que ele teria recebido subornos da empresa durante seu segundo mandato, entre 2006 e 2011 - o que ele negava. A notícia trata do ex-presidente do Peru, denominado:

- a) Augusto Bernardino Leguía y Salcedo.  
b) Luis Miguel Sánchez Cerro.  
c) Ricardo Leoncio Elías Arias.  
d) Alan Gabriel Ludwig García Pérez.  
e) José Pardo y Barreda.

**QUESTÃO 36**

O incêndio que atingiu a Catedral Notre-Dame de Paris ainda não foi oficialmente avaliado, mas parte de suas relíquias, puderam ser salvas. O incêndio começou às 18h50 de Paris na segunda-feira (15/4) e só foi extinto na manhã de terça-feira, 16/4. Apesar do trabalho intenso dos 400 bombeiros, parte da estrutura foi consumida pelas chamas, que só foram controladas depois de nove horas de incêndio. Assim sendo, assinale a alternativa *incorreta*:

- a) No geral, a estrutura do prédio resistiu bem.  
b) A Santa Coroa que, segundo a tradição católica foi utilizada por Jesus Cristo antes da crucificação, não sofreu danos.

**Caderno de Questões**  
**AUXILIAR DE SERVIÇOS GERAIS (FEMININO)**

---

- c) Os três imensos vitrais da igreja, de 13 metros de diâmetro, chamados de "rosáceas", não resistiram ao calor do fogo.
- d) A túnica de São Luís, um dos reis mais famosos da França, escapou das chamas.
- e) O telhado da igreja, que datava do século XIII, foi completamente destruído.

**QUESTÃO 37**

Entre os maiores doadores para a reconstrução da catedral de Notre-Dame no mundo figura uma brasileira. Ela enviou R\$ 88 milhões para que a igreja, um dos maiores cartões-postais de Paris, seja recuperado após o incêndio que destruiu grande parte do monumento. A dona de uma das maiores fortunas do planeta é a doadora da quantia que salta aos olhos, sendo ela:

- a) Lily Safra.
- b) Lia Maria Aguiar.
- c) Dulce Pugliese de Godoy Bueno.
- d) Ana Lúcia de Mattos Barretto Villela.
- e) Maria Helena Moraes Scripilliti.

**QUESTÃO 38**

O número de casos no país subiu 29% em duas semanas, de acordo com boletim divulgado pelo Ministério da Saúde. Até 30 de março, foram contabilizadas 322.199 infecções, com 86 mortes. Em 16 de março, eram 229.064. Em relação ao ano passado, a elevação é bastante expressiva: 303%. No mesmo período do ano passado, haviam sido registrados 51 óbitos. A notícia é referente à:

- a) Chikungunya.
- b) Dengue.
- c) Zika.
- d) Febre amarela.
- e) Sarampo.

**QUESTÃO 39**

O presidente do Congresso Nacional é o presidente do Senado Federal. Atualmente quem preside tal posto desde 02 de fevereiro de 2019 é:

- a) Renan Calheiros (MDB-AL).
- b) Espiridião Amin (PP-SC).
- c) Major Olímpio (PSL-SP).
- d) Tasso Jereissati (PSDB-CE).
- e) Davi Alcolumbre (DEM-AP).

**QUESTÃO 40**

Foram eleitos na sexta-feira 1º de fevereiro de 2019, os ocupantes dos sete cargos da Mesa Diretora da Câmara dos Deputados para o biênio 2019-2020. Foi eleito presidente pela terceira vez consecutiva, com 334 votos, o deputado:

- a) Fábio Ramalho (MDB-MG).
- b) Marcelo Freixo (Psol-RJ).
- c) Marcel Van Hattem (Novo-RS).
- d) Rodrigo Maia (DEM-RJ).
- e) Ricardo Barros (PP-PR).