



**PREFEITURA MUNICIPAL DE TATUÍ
ESTADO DE SÃO PAULO**

CONCURSO PÚBLICO Nº 01/2019

ARQUITETO

**CADERNO DE
QUESTÕES**

ABRA SOMENTE QUANDO AUTORIZADO

Nome do Candidato: _____

Assinatura: _____

Concurso Realizado pela:



Planexcon
ASSESSORIA E CONSULTORIA PÚBLICA

Contato

concurso@planexcon.com.br

Tel.0xx15 3282.3542

INSTRUÇÕES

1. Este Caderno contém 09 páginas com questões de múltipla escolha, assim distribuídas:
 - **Língua Portuguesa**, com 10 questões, enumeradas de 01 a 10;
 - **Matemática**, com 10 questões, enumeradas de 11 a 20;
 - **Conhecimentos Específicos**, com 15 questões, enumeradas de 21 a 35;
 - **Conhecimentos Gerais**, com 05 questões, enumeradas de 36 a 40.
2. Cada questão contém 5 (cinco) alternativas (a, b, c, d, e), das quais somente uma atende às condições do enunciado.
3. Esta prova terá a duração de 3 (três) horas, incluído o tempo necessário para preenchimento do Gabarito de Resposta, sendo permitida a saída do candidato da sala de prova somente após 30 minutos do seu início.
4. Responda a todas as questões. Para cômputo da nota, serão considerados apenas os acertos.
5. Não será permitido ao candidato o destaque de qualquer página da prova.
6. Não é permitido, em hipótese alguma, o empréstimo de qualquer objeto.
7. Não se atenha às questões que julgar difíceis, volte a elas se lhe sobrar tempo.
8. Estando as questões respondidas neste caderno, você deverá transcrever todas as alternativas assinaladas para o Gabarito de Respostas, utilizando caneta esferográfica de tinta preta ou azul.
9. Você receberá do Fiscal o Gabarito de Respostas. Verifique se estão em ordem e com todos os dados impressos corretamente. Caso contrário, notifique o Fiscal, imediatamente.
10. Após certificar-se de que a Gabarito de Respostas é seu, assine-o com caneta esferográfica de tinta preta ou azul no local em que há a indicação: "ASSINATURA DO (A) CANDIDATO (A)".
11. A folha de respostas não deve ser dobrada, amassada ou rasurada.
12. É de inteira responsabilidade do candidato qualquer prejuízo advindo de marcação incorreta efetuada no Gabarito de Respostas - Atenção: **O Gabarito de Respostas não será substituído em hipótese alguma.**
13. Serão nulas as respostas rasuradas ou múltiplas para uma mesma questão

Boa Prova!

LÍNGUA PORTUGUESA

Leia o texto abaixo para responder as
questões de números 01 a 04

Certas Coisas

Não existiria som
Se não houvesse o silêncio
Não haveria luz
Se não fosse a escuridão
A vida é mesmo assim,
Dia e noite, não e sim...

Cada voz que canta o amor não diz
Tudo o que quer dizer,
Tudo o que cala fala
Mais alto ao coração.
Silenciosamente eu te falo com paixão...

Eu te amo calado,
Como quem ouve uma sinfonia
De silêncios e de luz.
Nós somos medo e desejo,
Somos feitos de silêncio e sons,
Tem certas coisas que eu não sei dizer...

A vida é mesmo assim,
Dia e noite, não e sim...

Eu te amo calado,
Como quem ouve uma sinfonia
De silêncios e de luz,
Nós somos medo e desejo,
Somos feitos de silêncio e sons,
Tem certas coisas que eu não sei dizer..
E digo...

Compositor: Lulu Santos

QUESTÃO 01

A antítese figura de linguagem, ocorre em:

- a) Eu te amo calado.
- b) Como quem ouve uma sinfonia.
- c) Silenciosamente eu te falo com paixão.
- d) Somos feitos de silêncio e sons.
- e) Tem certas coisas que eu não sei dizer.

QUESTÃO 02

No verso: "Silenciosamente eu te falo com
paixão...", o vocábulo sublinhado pertence a
mesma classe gramatical que:

- a) Algum.

- b) Uma.
- c) Ainda.
- d) Nesse.
- e) Caso.

QUESTÃO 03

Em "Eu te amo calado", o substantivo "calado"
tem a função sintática de:

- a) Complemento nominal.
- b) Agente da passiva.
- c) Objeto indireto.
- d) Objeto direto.
- e) Predicativo do sujeito.

QUESTÃO 04

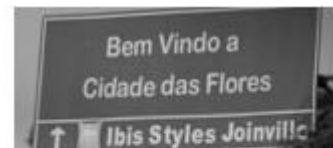
Leia os versos a seguir: "Eu te amo
calado/Como quem ouve uma sinfonia".

A oração destacada é classificada como:

- a) Subordinada substantiva objetiva direta.
- b) Subordinada adverbial comparativa.
- c) Coordenada sindética conclusiva.
- d) Coordenada assindética.
- e) Subordinada substantiva completiva
nominal.

QUESTÃO 05

Leia os textos abaixo:



A ninguém interessa o
nosso plano.

Assinale a alternativa cujos termos estão de
acordo com a norma-padrão:

- a) Bem-vindo à cidade das flores/ A ninguém
interessa o nosso plano.
- b) Bem vindo à cidade das flores/ À ninguém
interessa o nosso plano.
- c) Bem vindo a cidade das flores/ A ninguém
interessa o nosso plano.
- d) Bem-vindo a cidade das flores/ A ninguém
interessa o nosso plano.
- e) Bem-vindo à cidade das flores/ À ninguém
interessa o nosso plano.

QUESTÃO 06

O cidadão é o maior agente para melhorar o

planeta. Para a consolidação efetiva de um processo de desenvolvimento sustentável, faz-se necessária a participação coletiva, mas para atingir é preciso que tenha início no individual, ou seja, partir do particular para o geral. Nesse sentido, cada indivíduo deve avaliar seu conjunto de comportamentos e as possíveis consequências que eles provocam no meio ambiente e buscar seus interesses de modo que não haja grandes agressões a ele.

<https://brasilecola.uol.com.br/geografia/o-cidadao-no-desenvolvimento-sustentavel.htm> - (Acesso em 14/03/2019)

O texto traz algumas dicas para que o processo de desenvolvimento sustentável aconteça. Assinale a alternativa cujo vocábulo é sinônimo do termo “sustentável”:

- a) Defensável.
- b) Inoperacional.
- c) Padecido.
- d) Planetário.
- e) Térreo.

QUESTÃO 07

Das as alternativas abaixo, qual representa um parônimo do verbo deferir:

- a) Atender.
- b) Conceder.
- c) Diferir.
- d) Adiar.
- e) Prolongar.

Leia o texto abaixo para responder as questões de números 08 a 10



QUESTÃO 08

Susi! Me ajuda a bolar uns nomes científicos pros meus insetos **enquanto** a professora não está olhando. Assinale a alternativa em que a classificação morfológica do termo destacado do texto está *correta*:

- a) Pronome possessivo.
- b) Conjunção.
- c) Substantivo.
- d) Preposição.
- e) Advérbio.

QUESTÃO 09

A alternativa em que todas as palavras apresentadas são acentuadas em virtude da mesma regra que determina a acentuação da palavra “**agradável**” apresentada no texto, está em:

- a) Bíceps/ingênuo/córtex.
- b) Ímpar/córtex/caráter.
- c) Água/fóssil/ ímpar.
- d) Série/nódoa /aéreo.
- e) Fácil/adorável/réptil.

QUESTÃO 10

No segmento “*Quem sabe, sentando lá na frente da turma, você pare de distrair o Calvin*” as vírgulas são empregadas para:

- a) Separar aposto e vocativo.
- b) Marcar a supressão do verbo em uma oração.
- c) Separar orações independentes.
- d) Separar adjunto adverbial deslocado.
- e) Indicar a elipse de um termo.

MATEMÁTICA

QUESTÃO 11

No Condomínio Mar Azul, tem um reservatório de água em forma de cilindro cuja base é um círculo de raio de 10 metros e 6 metros de altura. Como o aspecto dele estava bastante embolorado, resolveu-se pintá-lo. O pintor contratado para executar o serviço, cobrou um valor de R\$ 8,00 o metro quadrado de pintura. Ao término do serviço o valor devido ao pintor foi de:

- a) R\$ 1.280,00.
- b) R\$ 2.048,00.
- c) R\$ 2.560,00.
- d) R\$ 4.800,00.
- e) R\$ 8.038,40.

Caderno de Questões
ARQUITETO

QUESTÃO 12

Um conservatório musical tem 320 alunos matriculados. Entre eles, 146 tocam violão, 84 tocam flauta e 38 tocam os dois instrumentos. Escolhendo ao acaso um dos alunos, qual a probabilidade de ele não tocar nenhum desses instrumentos:

- a) 42%.
- b) 41%.
- c) 40%.
- d) 38%.
- e) 35%.

QUESTÃO 13

Três costureiras produziram 250 lençóis em 5 dias. Se a oficina contratar mais duas costureiras por 3 dias, quantos lençóis serão produzidos pelas 5 costureiras:

- a) 500.
- b) 520.
- c) 680.
- d) 700.
- e) 710.

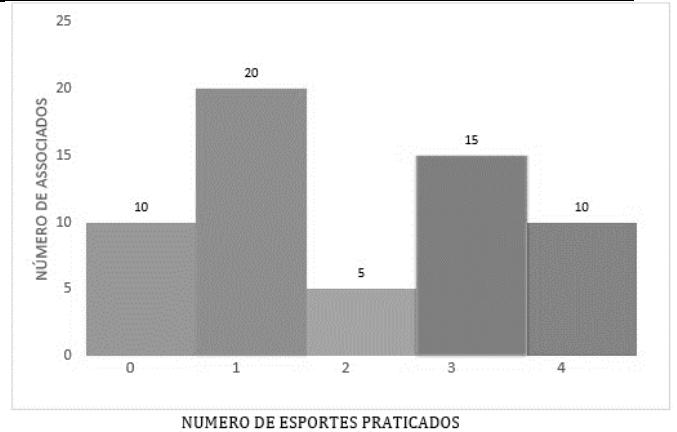
QUESTÃO 14

Se Willian é ator, então Gisele não é atleta. Se Odilon é atleta, então Sérgio é caricaturista. Assim sendo, podemos verificar que: Gisele e Odilon são atletas. Logo, se conclui que:

- a) Willian é ator e Sérgio é caricaturista.
- b) Willian é ator se, e somente se, Sérgio é caricaturista.
- c) Willian não é ator e Sérgio não é caricaturista.
- d) Willian não é ator e Sérgio é caricaturista.
- e) Willian não é ator se, e somente se, Sérgio não é caricaturista.

QUESTÃO 15

Observe o gráfico abaixo:



Certa tarde, no clube de campo “Céu Azul,” foi realizada uma pesquisa entre os associados que se encontravam na lanchonete, com a finalidade de saber o número de esportes que cada entrevistado pratica semanalmente. De acordo com o gráfico, e considerando o total de associados pesquisados, a porcentagem de associados que pratica semanalmente 2 ou 4 esportes é de:

- a) 5%.
- b) 10%.
- c) 15%.
- d) 20%.
- e) 25%.

QUESTÃO 16

Maria foi pagar a prestação de seu carro referente ao mês de março, com 6 dias de atraso. O valor da prestação era de R\$ 650,00, porém teve que pagar 0,4% de juro simples a.d. (ao dia). O valor total pago por Maria pela prestação do mês de março foi de:

- a) R\$676,00.
- b) R\$675,60.
- c) R\$665,60.
- d) R\$663,00.
- e) R\$660,40.

QUESTÃO 17

Na academia de ginástica, no período noturno, o número de alunos que estão frequentando diariamente, possuem as idades abaixo elencadas:

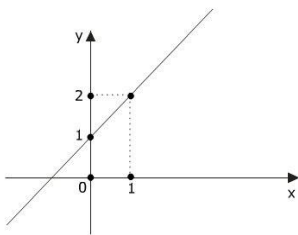
17, 19, 15, 29, 19, 17, 31, 21, 15, 16, 23,
21, 19, 16, 18, 21, 23, 25, 19, 17, 24, 23,
19, 31, 27, 28, 30, 23, 19.

Logo, o correto referente a esses dados, consta na alternativa:

- a) A mediana é 19 e a média é 21,55.
- b) Moda e mediana, ambas são iguais a 19.
- c) A moda e a média das idades são iguais a 21.
- d) A moda é 19 e a mediana é 21.
- e) A mediana das idades é 19 e a média é 29.

QUESTÃO 18

Observe o gráfico abaixo:



Ele representa uma função:

- a) Afim.
- b) Modular.
- c) Quadrática.
- d) Exponencial.
- e) Linear.

QUESTÃO 19

Juju comprou cinco camisetas, três bermudas e duas sandálias para levar em sua viagem de férias. De quantas maneiras diferentes Juju poderá vestir-se:

- a) 10.
- b) 13.
- c) 17.
- d) 27.
- e) 30.

QUESTÃO 20

Rodrigo possui a idade de 15 anos, enquanto que seu pai tem 45 anos. Levando em consideração a mesma razão entre as idades deles, assinale a alternativa que indica a idade de Rodrigo caso seu pai tivesse 60 anos de idade:

- a) 30 anos.
- b) 12 anos.
- c) 18 anos.
- d) 25 anos.
- e) 20 anos.

CONHECIMENTOS ESPECÍFICOS

QUESTÃO 21

De acordo com o Decreto nº 12.342/1978, os pés-direitos não poderão ser inferiores aos estabelecidos nas normas específicas para a respectiva edificação e, quando não previstos, aos valores a seguir:

- a) Salas, em habitações: 2,80m.
- b) Garagens, em habitações: 2,70m.
- c) Instalações sanitárias, em escolas: 2,70m.
- d) Dormitórios, em habitações: 2,70m.
- e) Pavimentos térreos, em edificações destinadas a comércio e serviços: 2,70m.

QUESTÃO 22

Os comandos *Explode* e *Burst*, ambos do software *AutoCAD*, podem ser utilizados com a finalidade de explodir blocos ou objetos, podendo-se afirmar que:

- a) O comando *Explode* pode, além de explodir blocos ou objetos, limpar o desenho.
- b) O comando *Burst* pode, além de explodir blocos ou objetos, espelhá-los.
- c) O comando *Explode* mantém os atributos do objeto/bloco explodido, diferentemente do comando *Burst*.
- d) O comando *Burst* mantém os atributos do objeto/bloco explodido, diferentemente do comando *Explode*.
- e) Não existem diferenças nos resultados de tais comandos.

QUESTÃO 23

Leia com atenção as alternativas abaixo e indique qual delas não se trata de requisito do usuário em relação à habitabilidade do imóvel:

- a) Desempenho térmico, acústico e lumínico.
- b) Durabilidade.
- c) Estanqueidade.
- d) Funcionalidade e acessibilidade.
- e) Conforto tátil e antropodinâmico.

QUESTÃO 24

Leia com atenção as assertivas abaixo, referentes às regulamentações do Decreto Federal nº 5.296/2004, e atribua V para as sentenças verdadeiras e F para as sentenças falsas.

() Os semáforos para pedestres instalados nas vias públicas deverão estar

Caderno de Questões
ARQUITETO

equipados com mecanismo que sirva de guia ou orientação para a travessia de pessoa portadora de deficiência visual ou com mobilidade reduzida em todos os locais onde a intensidade do fluxo de veículos, de pessoas ou a periculosidade na via assim determinarem, bem como mediante solicitação dos interessados.

() Para emissão de carta de "habite-se" ou habilitação equivalente e para sua renovação, quando esta tiver sido emitida anteriormente às exigências de acessibilidade contidas na legislação específica, devem ser observadas e certificadas as regras de acessibilidade previstas no referido Decreto e nas normas técnicas de acessibilidade da ABNT.

() A construção, reforma ou ampliação de edificações de uso público ou coletivo, ou a mudança de destinação para estes tipos de edificação, deverão ser executadas de modo que sejam ou se tornem acessíveis à pessoa portadora de deficiência ou com mobilidade reduzida.

Dada as sentenças acima, pode se afirmar que a alternativa que corresponde à combinação correta referente à todas as respostas é:

- a) V, V, V.
- b) F, V, V.
- c) V, V, F.
- d) V, F, V.
- e) V, F, F.

QUESTÃO 25

Leia atentamente as definições descritas nas frases abaixo:

- I. É feito com base na planilha orçamentária e deverá prever o período de obras, o desembolso total e os desembolsos mensais durante este período.
- II. É utilizada em qualquer projeto baseado em atividades seqüenciadas para atingir um objetivo.
- III. Também conhecida como Teorema de Pareto, sendo comumente empregada no gerenciamento de estoques.

Assinale a alternativa que corresponde as definições descritas acima, respectivamente:

- a) Cronograma Físico-Financeiro, Técnica

PERT/CPM e Curva ABC.

- b) Curva ABC, Cronograma Físico-Financeiro e Técnica PERT/COM.
- c) Técnica PERT/CPM, Cronograma Físico-Financeiro e Curva ABC.
- d) Cronograma Físico-Financeiro, Curva ABC e Técnica PERT/CPM.
- e) Técnica PERT/CPM, Curva ABC e Cronograma Físico-Financeiro.

QUESTÃO 26

A resolução Nº 52/2013, Código de Ética e Disciplina do Conselho de Arquitetura e Urbanismo do Brasil apresenta os princípios, as regras e as recomendações das Obrigações para com o Interesse Público. As alternativas abaixo descrevem as recomendações do referido tópico, exceto:

- a) O arquiteto e urbanista deve ter consciência do caráter essencial de sua atividade como intérprete e servidor da cultura e da sociedade da qual faz parte.
- b) O arquiteto e urbanista deve promover e divulgar a Arquitetura e Urbanismo colaborando para o desenvolvimento cultural e para a formação da consciência pública sobre os valores éticos, técnicos e estéticos da atividade profissional.
- c) O arquiteto e urbanista deve considerar e interpretar as necessidades das pessoas, da coletividade e dos grupos sociais, relativas ao ordenamento do espaço, à concepção e execução das construções, à preservação e valorização do patrimônio arquitetônico, urbanístico, paisagístico e natural.
- d) O arquiteto e urbanista deve assumir a responsabilidade pela orientação transmitida a seus contratantes.
- e) O arquiteto e urbanista deve envidar esforços para assegurar o atendimento das necessidades humanas referentes à funcionalidade, à economicidade, à durabilidade, ao conforto, à higiene e à acessibilidade dos ambientes construídos.

QUESTÃO 27

Em relação ao EIV (Estudo de Impacto de Vizinhança), conforme preconiza a Lei Federal 10.257/2001, pode-se afirmar que:

- a) Os documentos integrantes do EIV ficarão disponíveis para consulta, no órgão competente do Poder Público municipal,

Caderno de Questões
ARQUITETO

por qualquer interessado.

- b) A elaboração do EIV substitui a elaboração e a aprovação de estudo prévio de impacto ambiental (EIA).
- c) A análise da valorização imobiliária da área e suas proximidades é indiferente para o EIV.
- d) A ventilação e iluminação não são consideradas itens a serem analisadas pelo EIV.
- e) O adensamento populacional não é fator a ser considerado para o EIV.

QUESTÃO 28

Leia atentamente as definições descritas nas frases abaixo que foram extraídas da NBR 6492:1994 – Representação de projetos de arquitetura:

- I. Planta que compreende o projeto como um todo, contendo, além do projeto de arquitetura, as informações necessárias dos projetos complementares, tais como movimento de terra, arruamento, redes hidráulica, elétrica e de drenagem, entre outros.
- II. Planta que compreende o partido arquitetônico como um todo, em seus múltiplos aspectos. Pode conter informações específicas em função do tipo e porte do programa, assim como para a finalidade a que se destina.
- III. Vista superior do plano secante horizontal, localizado a, aproximadamente, 1,50 m do piso em referência. A altura desse plano pode ser variável para cada projeto de maneira a representar todos os elementos considerados necessários.

A alternativa que corresponde às definições acima, respectivamente, é:

- a) Planta de Situação, Planta de Locação e Planta de Edificação.
- b) Planta de Situação, Planta de Edificação e Planta de Locação.
- c) Planta de Locação, Planta de Edificação e Planta de Situação.
- d) Planta de Edificação, Planta de Locação e Planta de Situação.
- e) Planta de Locação, Planta de Situação e Planta de Edificação.

QUESTÃO 29

O Custo Unitário Básico da Construção (CUB) é um dos indicadores mais utilizados para esse tipo de orçamento, cujo custo total da obra pode ser dado pela expressão $\text{Custo Total} = \text{Área de Construção} \times \text{CUB}$. O tipo de orçamento ao qual se refere a presente questão é:

- a) Estimativa de custos.
- b) Sintético.
- c) Analítico.
- d) Detalhado.
- e) Resumido.

QUESTÃO 30

A Lei Orgânica do Município de Tatuí estabelece que os planos de loteamento e arruamento deverão destinar áreas a:

- I. Via de tráfego e de passagem de canalização pública dos esgotos e das águas pluviais.
- II. Passagem de canalização pública de esgotos e de águas pluviais.
- III. Passeio público que comporte a arborização, sem prejuízo da circulação de pedestres e canalizações públicas.
- IV. Manutenção de faixas lindeiras ou circundantes aos corpos e nascentes de água, nos termos do artigo 2º do Código Florestal.
- V. Criação e manutenção da vegetação arbórea e espaço público de recreação e lazer, permitindo a cessão a terceiros.

A assertiva que não está em consonância com a referida lei municipal é:

- a) I, somente.
- b) II, somente.
- c) III, somente.
- d) IV, somente.
- e) V, somente.

QUESTÃO 31

Segundo preconiza a NBR 6492-Representação de projetos de arquitetura, pode-se afirmar que:

- a) O quadro geral dos acabamentos não é facultativo.
- b) O quadro geral de áreas não é facultativo e deverá constar em folha à parte.
- c) As cotas de nível são sempre em metro.
- d) Nos cortes, deve-se marcar cotas verticais e

Caderno de Questões
ARQUITETO

horizontais.

- e) As linhas de projeção devem ser representadas por traço e ponto com +/- 0,2mm de espessura.

QUESTÃO 32

Conforme NBR 9050/2015, existem elementos de sinalização essenciais em edificações que devem ser informados, dos quais pode-se citar, exceto:

- a) Sanitários.
- b) Corredor de circulação.
- c) Acessos verticais e horizontais.
- d) Rotas de fuga.
- e) Números de pavimentos.

QUESTÃO 33

Leia com atenção as assertivas abaixo, referentes à NR 17 - Ergonomia, e atribua V para as sentenças verdadeiras e F para as sentenças falsas.

() Para as atividades em que os trabalhos devam ser realizados sentados, a partir da análise ergonômica do trabalho, poderá ser exigido suporte para os pés, que se adapte ao comprimento da perna do trabalhador.

() Para as atividades em que os trabalhos devam ser realizados de pé, devem ser colocados assentos para descanso em locais em que possam ser utilizados por todos os trabalhadores durante as pausas.

() Em todos os locais de trabalho deve haver iluminação adequada, natural ou artificial, geral ou suplementar, apropriada à natureza da atividade.

() Quando mulheres e trabalhadores jovens forem designados para o transporte manual de cargas, o peso máximo destas cargas deverá ser nitidamente inferior àquele admitido para os homens, para não comprometer a sua saúde ou a sua segurança.

Dada as sentenças acima, pode se afirmar que a alternativa que corresponde à combinação correta referente à todas as respostas é:

- a) V, F, V, F.
- b) V, V, F, V.
- c) V, V, V, V.
- d) V, F, V, V.
- e) V, V, V, F.

QUESTÃO 34

Identifique quais são os elementos da edificação que são compostos pelos seguintes componentes construtivos, respectivamente: (I) placas e painéis; (II) canaletas, calhas e rufos; (III) blocos, cortinas e arrimos:

- a) Forros; Coberturas; Estrutura.
- b) Forros; Coberturas; Fundações.
- c) Coberturas; Forros; Estrutura.
- d) Coberturas; Forros; Fundações.
- e) Coberturas; Coberturas; Fundações.

QUESTÃO 35

Observe as alternativas abaixo e indique qual delas não está em consonância com as disposições da Lei Federal 12.651/2012 acerca da área de Reserva Legal:

- a) Em caso de fracionamento do imóvel rural, a qualquer título, será considerada para o cálculo da área de reserva legal, a área do imóvel antes do fracionamento.
- b) Será exigido Reserva Legal relativa às áreas adquiridas ou desapropriadas com o objetivo de implantação e ampliação de capacidade de rodovias e ferrovias.
- c) Os empreendimentos de abastecimento público de água e tratamento de esgoto não estão sujeitos à constituição de Reserva Legal.
- d) Para imóveis rurais localizados fora da Amazônia Legal, será considerado o percentual mínimo de 20% a título de reserva legal em relação à área do imóvel.
- e) A localização da área de Reserva Legal no imóvel rural deverá levar em consideração o zoneamento ecológico-econômico, juntamente com outros critérios descritos na referida lei.

CONHECIMENTOS GERAIS

QUESTÃO 36

A Mangueira é a grande escola campeã do carnaval 2019 do Rio de Janeiro. Para conquistar o seu 20º título, a Mangueira apresentou o seguinte enredo:

- a) “História pra ninar gente grande”.
- b) “Cada macaco no seu galho. Ó, meu pai, me dê o pão que eu não morro de fome”.
- c) “Quem nunca...? Que atire a primeira pedra!”.
- d) “Quem não viu vai ver...As fábulas do Beija-

Caderno de Questões
ARQUITETO

flor”.

e) “Me dá um dinheiro aí”.

QUESTÃO 37

“O comitê organizador dos jogos de Tóquio de 2020 apresentou na quarta-feira (20 de março) a tocha olímpica.”

<https://is.gd/JRKKZc> Acesso em 23 de Março de 2019–
Adaptado

Assinale a alternativa *incorreta* a respeito do trecho acima:

- a) Com design moderno, 71 centímetros e 1,2 kg, a tocha tem tons em dourado e rosa e formato de uma flor de cerejeira estilizada.
- b) A tocha é trabalho do designer Tokujin Yoshioka.
- c) O comitê nomeou a cor sakura e ouro - sakura significa flor de cerejeira em japonês.
- d) A árvore cerejeira é símbolo mundial e floresce em distintos períodos do ano, sendo mais de 200 tipos.
- e) A tocha olímpica é feita de alumínio, com 30% de material reciclado de resíduos de construção de habitações temporárias de Iwate, Miyagi e Fukushima, destinadas a pessoas que perderam suas casas no terremoto e tsunami em 2011.

QUESTÃO 38

O ex-presidente Michel Temer foi preso em São Paulo na manhã de quinta-feira (21/03/19) pela força-tarefa da Lava Jato do Rio de Janeiro. Os agentes também prenderam o ex-ministro Moreira Franco no Rio. A prisão de Temer é preventiva, ou seja, sem prazo determinado.

Temer é um dos alvos da Lava Jato do Rio. A prisão teve como base a delação de _____, dono da Engevix. O empresário disse à Polícia Federal que pagou _____, a pedido do coronel João Baptista Lima Filho (amigo de Temer), do ex-ministro Moreira Franco e com o conhecimento do presidente Michel Temer.

<https://is.gd/HTNFZq> Acesso em 23 de Março de 2019–
Adaptado

A Engevix fechou um contrato em um projeto da usina de Angra 3:

- a) Joesley Batista/cem mil em propina.
- b) José Antunes Sobrinho/um milhão em

propina.

- c) Vanderlei de Natale/duzentos mil em propina.
- d) Brian Prado/cento e cinquenta mil em propina.
- e) Wellington Moreira Franco/duzentos e vinte mil em propina.

QUESTÃO 39

O naufrágio de uma balsa superlotada deixou dezenas mortos no rio Tigre, em Mossul, no norte do Iraque, na quinta-feira (21/03/19). Ela transportava passageiros da margem do rio para uma pequena ilha turística chamada Um al Rabeein. Segundo o Ministério do Interior iraquiano, 94 pessoas morreram.

A maioria das vítimas são mulheres e crianças que não sabiam nadar, disse o chefe da Defesa Civil de Mossul, Husam Khalil. Cerca de 250 pessoas estavam a bordo, cinco vezes mais que a capacidade da balsa, informou.

<https://is.gd/nzhfQt> Acesso em 23 de Março de 2019–
Adaptado

As causas do naufrágio continuam desconhecidas, porém:

1. Oficiais iraquianos disseram à AP que houve um problema técnico.
2. Fontes disseram que não havia barcos na área o suficiente para resgatar as vítimas.
3. Suspeita-se também de que a abertura das barragens pode ter causado aumento no nível de água, o que pode ter desestabilizado a embarcação.

Está (ão) correta (s) a (s) alternativa(s):

- a) 1 apenas.
- b) 1 e 2 apenas.
- c) 1, 2 e 3.
- d) 2 e 3 apenas.
- e) 2 apenas.

QUESTÃO 40

O comitê organizador da Olimpíada de 2020, em Tóquio, anunciou na madrugada de 22/7/18 o nome dos mascotes da Olimpíada e Paraolimpíada. Suas figuras já eram conhecidas, mas o batismo aconteceu em cerimônia transmitida ao vivo nas redes sociais. Assim sendo, o mascote dos Jogos Olímpicos foi chamado de _____, que na escrita japonesa é a junção das palavras 未

Caderno de Questões
ARQUITETO

来 (futuro) e 永遠 (eternidade). Já o mascote paraolímpico foi batizado de _____.
<https://is.gd/EfgMdo> Acesso em 23 de Março de 2019-
Adaptado

Na língua portuguesa significa "tão poderoso".

- a) Shitennoji/ Someity.
- b) Mie Ken/ Miraitowa.
- c) Keio/ Odakyu.
- d) Shinjuku/ Mie Ken.
- e) Miraitowa/ Someity.