



**PREFEITURA MUNICIPAL DE TATUÍ
ESTADO DE SÃO PAULO**

CONCURSO PÚBLICO Nº 01/2019

TÉCNICO DE IMOBILIZAÇÃO ORTOPÉDICA

**CADERNO DE
QUESTÕES**

ABRA SOMENTE QUANDO AUTORIZADO

Nome do Candidato: _____

Assinatura: _____

Concurso Realizado pela:



Planexcon
ASSESSORIA E CONSULTORIA PÚBLICA

Contato

concurso@planexcon.com.br

Tel.0xx15 3282.3542

INSTRUÇÕES

1. Este Caderno contém 09 páginas com questões de múltipla escolha, assim distribuídas:
 - **Língua Portuguesa**, com 10 questões, enumeradas de 01 a 10;
 - **Matemática**, com 05 questões, enumeradas de 11 a 15;
 - **Noções de Informática**, com 05 questões, enumeradas de 16 a 20;
 - **Conhecimentos Específicos**, com 10 questões, enumeradas de 21 a 30;
 - **Conhecimentos Gerais**, com 10 questões, enumeradas de 31 a 40.
2. Cada questão contém 5 (cinco) alternativas (a, b, c, d, e), das quais somente uma atende às condições do enunciado.
3. Esta prova terá a duração de 3 (três) horas, incluído o tempo necessário para preenchimento do Gabarito de Resposta, sendo permitida a saída do candidato da sala de prova somente após 30 minutos do seu início.
4. Responda a todas as questões. Para cômputo da nota, serão considerados apenas os acertos.
5. Não será permitido ao candidato o destaque de qualquer página da prova.
6. Não é permitido, em hipótese alguma, o empréstimo de qualquer objeto.
7. Não se atenha às questões que julgar difíceis, volte a elas se lhe sobrar tempo.
8. Estando as questões respondidas neste caderno, você deverá transcrever todas as alternativas assinaladas para o Gabarito de Respostas, utilizando caneta esferográfica de tinta preta ou azul.
9. Você receberá do Fiscal o Gabarito de Respostas. Verifique se estão em ordem e com todos os dados impressos corretamente. Caso contrário, notifique o Fiscal, imediatamente.
10. Após certificar-se de que a Gabarito de Respostas é seu, assine-o com caneta esferográfica de tinta preta ou azul no local em que há a indicação: "ASSINATURA DO (A) CANDIDATO (A)".
11. A folha de respostas não deve ser dobrada, amassada ou rasurada.
12. É de inteira responsabilidade do candidato qualquer prejuízo advindo de marcação incorreta efetuada no Gabarito de Respostas - Atenção: **O Gabarito de Respostas não será substituído em hipótese alguma.**
13. Serão nulas as respostas rasuradas ou múltiplas para uma mesma questão

Boa Prova!

LÍNGUA PORTUGUESA

Leia o texto abaixo para responder as
questões de números 01 a 04

Certas Coisas

Não existiria som
Se não houvesse o silêncio
Não haveria luz
Se não fosse a escuridão
A vida é mesmo assim,
Dia e noite, não e sim...

Cada voz que canta o amor não diz
Tudo o que quer dizer,
Tudo o que cala fala
Mais alto ao coração.
Silenciosamente eu te falo com paixão...

Eu te amo calado,
Como quem ouve uma sinfonia
De silêncios e de luz.
Nós somos medo e desejo,
Somos feitos de silêncio e sons,
Tem certas coisas que eu não sei dizer...

A vida é mesmo assim,
Dia e noite, não e sim...

Eu te amo calado,
Como quem ouve uma sinfonia
De silêncios e de luz,
Nós somos medo e desejo,
Somos feitos de silêncio e sons,
Tem certas coisas que eu não sei dizer..
E digo...

Compositor: Lulu Santos

QUESTÃO 01

A antítese figura de linguagem, ocorre em:

- a) Eu te amo calado.
- b) Como quem ouve uma sinfonia.
- c) Silenciosamente eu te falo com paixão.
- d) Somos feitos de silêncio e sons.
- e) Tem certas coisas que eu não sei dizer.

QUESTÃO 02

No verso: "Silenciosamente eu te falo com paixão...", o vocábulo sublinhado pertence a mesma classe gramatical que:

- a) Algum.

- b) Uma.
- c) Ainda.
- d) Nesse.
- e) Caso.

QUESTÃO 03

Em "Eu te amo calado", o substantivo "calado" tem a função sintática de:

- a) Complemento nominal.
- b) Agente da passiva.
- c) Objeto indireto.
- d) Objeto direto.
- e) Predicativo do sujeito.

QUESTÃO 04

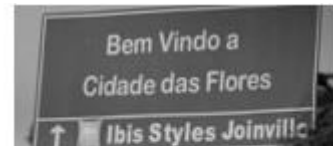
Leia os versos a seguir: "Eu te amo calado/Como quem ouve uma sinfonia".

A oração destacada é classificada como:

- a) Subordinada substantiva objetiva direta.
- b) Subordinada adverbial comparativa.
- c) Coordenada sindética conclusiva.
- d) Coordenada assindética.
- e) Subordinada substantiva completiva nominal.

QUESTÃO 05

Leia os textos abaixo:



A ninguém interessa o
nosso plano.

Assinale a alternativa cujos termos estão de acordo com a norma-padrão:

- a) Bem-vindo à cidade das flores/ A ninguém interessa o nosso plano.
- b) Bem vindo à cidade das flores/ À ninguém interessa o nosso plano.
- c) Bem vindo a cidade das flores/ A ninguém interessa o nosso plano.
- d) Bem-vindo a cidade das flores/ A ninguém interessa o nosso plano.
- e) Bem-vindo à cidade das flores/ À ninguém interessa o nosso plano.

QUESTÃO 06

O cidadão é o maior agente para melhorar o

Caderno de Questões
TÉCNICO DE IMOBILIZAÇÃO ORTOPÉDICA

planeta. Para a consolidação efetiva de um processo de desenvolvimento sustentável, faz-se necessária a participação coletiva, mas para atingir é preciso que tenha início no individual, ou seja, partir do particular para o geral. Nesse sentido, cada indivíduo deve avaliar seu conjunto de comportamentos e as possíveis consequências que eles provocam no meio ambiente e buscar seus interesses de modo que não haja grandes agressões a ele.

<https://brasilecola.uol.com.br/geografia/o-cidadao-no-desenvolvimento-sustentavel.htm>- (Acesso em 14/03/2019)

O texto traz algumas dicas para que o processo de desenvolvimento sustentável aconteça. Assinale a alternativa cujo vocábulo é sinônimo do termo “sustentável”:

- a) Defensável.
- b) Inoperacional.
- c) Padecido.
- d) Planetário.
- e) Térreo.

QUESTÃO 07

Das as alternativas abaixo, qual representa um parônimo do verbo deferir:

- a) Atender.
- b) Conceder.
- c) Diferir.
- d) Adiar.
- e) Prolongar.

Leia o texto abaixo para responder as questões de números 08 a 10



QUESTÃO 08

Susi! Me ajuda a bolar uns nomes científicos pros meus insetos **enquanto** a professora não está olhando. Assinale a alternativa em que a classificação morfológica do termo destacado do texto está *correta*:

- a) Pronome possessivo.
- b) Conjunção.
- c) Substantivo.
- d) Preposição.
- e) Advérbio.

QUESTÃO 09

A alternativa em que todas as palavras apresentadas são acentuadas em virtude da mesma regra que determina a acentuação da palavra “**agradável**” apresentada no texto, está em:

- a) Bíceps/ingênuo/córtex.
- b) Ímpar/córtex/caráter.
- c) Água/ fósfil/ ímpar.
- d) Série /nódoa /aéreo.
- e) Fácil/adorável/réptil.

QUESTÃO 10

No segmento “*Quem sabe, sentando lá na frente da turma, você pare de distrair o Calvin*” as vírgulas são empregadas para:

- a) Separar aposto e vocativo.
- b) Marcar a supressão do verbo em uma oração.
- c) Separar orações independentes.
- d) Separar adjunto adverbial deslocado.
- e) Indicar a elipse de um termo.

MATEMÁTICA

QUESTÃO 11

No Condomínio Mar Azul, tem um reservatório de água em forma de cilindro cuja base é um círculo de raio de 10 metros e 6 metros de altura. Como o aspecto dele estava bastante embolorado, resolveu-se pintá-lo. O pintor contratado para executar o serviço, cobrou um valor de R\$ 8,00 o metro quadrado de pintura. Ao término do serviço o valor devido ao pintor foi de:

- a) R\$ 1.280,00.
- b) R\$ 2.048,00.
- c) R\$ 2.560,00.
- d) R\$ 4.800,00.
- e) R\$ 8.038,40.

Caderno de Questões
TÉCNICO DE IMOBILIZAÇÃO ORTOPÉDICA

QUESTÃO 12

Um conservatório musical tem 320 alunos matriculados. Entre eles, 146 tocam violão, 84 tocam flauta e 38 tocam os dois instrumentos. Escolhendo ao acaso um dos alunos, qual a probabilidade de ele não tocar nenhum desses instrumentos:

- a) 42%.
- b) 41%.
- c) 40%.
- d) 38%.
- e) 35%.

QUESTÃO 13

Três costureiras produziram 250 lençóis em 5 dias. Se a oficina contratar mais duas costureiras por 3 dias, quantos lençóis serão produzidos pelas 5 costureiras:

- a) 500.
- b) 520.
- c) 680.
- d) 700.
- e) 710.

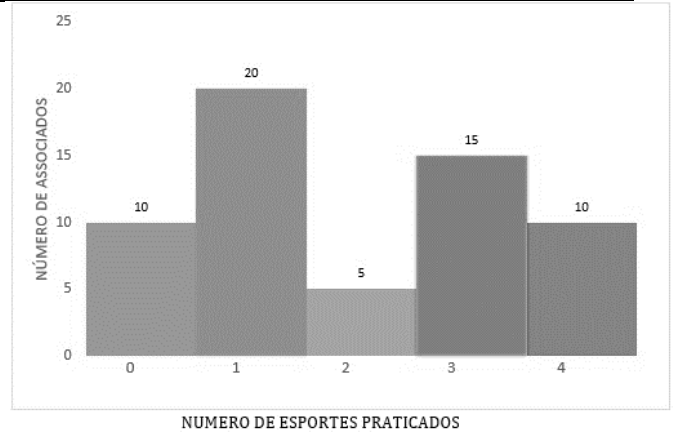
QUESTÃO 14

Se Willian é ator, então Gisele não é atleta. Se Odilon é atleta, então Sérgio é caricaturista. Assim sendo, podemos verificar que: Gisele e Odilon são atletas. Logo, se conclui que:

- a) Willian é ator e Sérgio é caricaturista.
- b) Willian é ator se, e somente se, Sérgio é caricaturista.
- c) Willian não é ator e Sérgio não é caricaturista.
- d) Willian não é ator e Sérgio é caricaturista.
- e) Willian não é ator se, e somente se, Sérgio não é caricaturista.

QUESTÃO 15

Observe o gráfico abaixo:



Certa tarde, no clube de campo “Céu Azul,” foi realizada uma pesquisa entre os associados que se encontravam na lanchonete, com a finalidade de saber o número de esportes que cada entrevistado pratica semanalmente. De acordo com o gráfico, e considerando o total de associados pesquisados, a porcentagem de associados que pratica semanalmente 2 ou 4 esportes é de:

- a) 5%.
- b) 10%.
- c) 15%.
- d) 20%.
- e) 25%.

NOÇÕES DE INFORMÁTICA

QUESTÃO 16

Observe os ícones a seguir do grupo “Fonte” do Microsoft Word 2010:



Pela ordem em que aparecem, eles desempenham as seguintes funções:

- a) Iniciar uma lista com marcadores/Iniciar uma lista numerada.
- b) Limpar toda formatação da seleção, deixando o texto sem formatação/ Aplicar um efeito visual ao texto selecionado, como sombra, brilho ou reflexo.
- c) Colorir o plano de fundo atrás do texto/Alterar a cor do texto.
- d) Aplicar realce ao texto/Alterar cor ao texto.
- e) Iniciar uma lista com marcadores/Colocar o texto em ordem alfabética.

Caderno de Questões
TÉCNICO DE IMOBILIZAÇÃO ORTOPÉDICA

QUESTÃO 17

Observe a imagem abaixo do grupo “Classificar e filtrar” do Microsoft Excel 2010 e considere as assertivas que seguem assinalando V para a verdadeira e F para a falsa:








- () A opção Limpar permite limpar o filtro e o estado de classificação do intervalo de dados atuais.
() A opção Reaplicar permite reaplicar o filtro e a classificação no intervalo atual.
() A opção Filtro permite habilitar a filtragem das células selecionadas.

As assertivas são, respectivamente, de cima para baixo:

- a) V, V, V.
b) F, F, V.
c) V, F, V.
d) V, F, F.
e) F, V, F.

QUESTÃO 18

No Microsoft Word 2010, o recurso que faz o texto parecer como se tivesse sido marcado com uma marca-texto é o que consta na alternativa:

- a) 
b) 
c) 
d) 
e) 

QUESTÃO 19

Analise as afirmativas abaixo:

1. Um URL (Uniform Resource Locator) é o endereço de um recurso (um arquivo, uma impressora etc.), disponível em uma rede; seja a Internet, ou uma rede corporativa, uma intranet. Uma URL tem a seguinte estrutura:

- protocolo://máquina/caminho/recurso.
2. Para que dois computadores possam se comunicar é necessário que se tenha um conjunto de regras a seguir no cumprimento da troca de informações. A esse conjunto de regras denomina-se Protocolo.
3. O protocolo utilizado na internet é o Protocolo TCP/IP (Transmission Control Protocol/Internet Protocol), que permite as redes se comuniquem umas com as outras.

Está (ão) correta(s) a(s) afirmativa(s):

- a) 1 apenas.
b) 1 e 2 apenas.
c) 1, 2 e 3.
d) 2 e 3 apenas.
e) 3 apenas.

QUESTÃO 20

Observe a Planilha 1, do Microsoft Excel 2010. A seguir, observe a Planilha 2 onde foi utilizado um recurso nas células A1, B1 e C1 do Grupo Alinhamento:

PLANILHA 1

	A	B	C
1	Empresa Fulano de tal		
2			
3	Produtos	Quant.	Valores
4	Vassouras	5	R\$ 15,00
5	Escova	3	R\$ 3,75
6	Panos	3	R\$ 2,25

PLANILHA 2

	A	B	C
1	Empresa Fulano de tal		
2			
3	Produtos	Quant.	Valores
4	Vassouras	5	R\$ 15,00
5	Escova	3	R\$ 3,75
6	Panos	3	R\$ 2,25

O recurso utilizado é:

- a) Alinhar ao Meio.
b) Diminuir Recuo.
c) Orientação.
d) Mesclar e Centralizar.
e) Aumentar recuo.

CONHECIMENTOS ESPECÍFICOS

QUESTÃO 21

A clavícula (pequena chave), localizada na cintura escapular, é um dos ossos mais simples do corpo humano. Entretanto, realiza diversas funções de grande importância no cotidiano. Assinale a opção que não se inclui dentre essas funções:

- a) Atua como suporte na manutenção do membro superior livre do tronco, de forma que haja máxima liberdade de ação.
- b) Transmite forças do membro superior para o esqueleto axial.
- c) Fornece fixações para os músculos.
- d) A clavícula protraí a escápula impedindo a formação de escápula alada.
- e) Conecta o membro superior ao esqueleto axial.

QUESTÃO 22

O úmero é o maior osso do membro superior. Sua cabeça lisa e esférica se articula com uma das estruturas da escápula. Assinale a alternativa que corresponde ao nome desta estrutura:

- a) Fossa do olecrano.
- b) Fossa coronóide.
- c) Cavidade glenoíde.
- d) Acrômio.
- e) Processo coracóide.

QUESTÃO 23

O úmero é o maior osso do membro superior e é repleto de acidentes, na vista posterior deste osso podemos visualizar diversas estruturas. Assinale a opção de uma estrutura que é evidenciada na parte posterior do úmero:

- a) Linha trapezóide.
- b) Tubérculo menor.
- c) Sulco intertubercular.
- d) sulco para o nervo radial.
- e) Fossa coronóide.

QUESTÃO 24

A ulna é o maior osso do antebraço. Este osso prismático que parece uma chave inglesa está articulado com o rádio através de algumas

estruturas em contato. Assinale as estruturas citadas pela questão:

- a) Membrana interóssea e fossa do músculo supinador.
- b) Articulação radioulnar distal e membrana interóssea.
- c) Olécrano e processo coronóide.
- d) Linha oblíqua posterior do rádio e borda posterior da ulna.
- e) Tubérculo dorsal da ulna e processo estilóide do rádio.

QUESTÃO 25

Quando caímos sobre a palma com a mão abduzida comumente sentimos dor na região da tabaqueira anatômica. Possivelmente fraturamos um dos ossos do carpo, assinale o osso que provavelmente fraturamos:

- a) Escafóide.
- b) Primeiro metacarpo.
- c) Piramidal.
- d) Capitato.
- e) Hamato.

QUESTÃO 26

Podemos caracterizar a “Pronação” como:

- a) O movimento do antebraço e mão que gira o rádiomedialmente em torno do seu eixo longitudinal de modo que a palma da mão olha posteriormente e seu dorso olha anteriormente.
- b) O movimento da sola do pé em direção ao plano mediano (a sola olhando medialmente), quando o pé está completamente invertido, ele também está plantarfletido.
- c) O movimento da sola do pé para longe do plano mediano (virando a sola lateralmente), quando o pé está completamente evertido, ele também está dorsifletido.
- d) Abaixar ou mover uma parte para baixo, como por exemplo, abaixar os ombros quando no movimento de relaxar os ombros, quando de pé.
- e) Elevar ou mover uma parte para cima, como por exemplo, elevar os ombros quando no movimento de encolher os

Caderno de Questões
TÉCNICO DE IMOBILIZAÇÃO ORTOPÉDICA

ombros.

QUESTÃO 27

Caracteriza-se como sendo a quebra total ou parcial de um osso – ou seja, a quebra estrutural da continuidade – causada por umapancada muito forte, uma queda ou esmagamento, podendo gerar graveslesões em partes moles, como músculos, tendões, ligamentos, etc:

- a) Entorse.
- b) Fratura.
- c) Contusão.
- d) Luxação.
- e) Hematoma.

QUESTÃO 28

Não é uma complicação de uma imobilização:

- a) Interferência com a circulação.
- b) Pressão sobre nervos periféricos.
- c) Dermatite.
- d) Úlceras de gesso.
- e) Hipertrofia muscular

QUESTÃO 29

A imobilização de Sarmiento se aplica para fraturas:

- a) Do fêmur.
- b) Da tíbia.
- c) Da fíbula.
- d) Do tornozelo.
- e) Do calcâneo.

QUESTÃO 30

Não é função da tração:

- a) Minimizar Os Espasmos Musculares.
- b) Reduzir, Alinhar E Imobilizar Fraturas.
- c) Aliviar A Pressão Sobre Os Nervos, Principalmente Da Coluna.
- d) Reduzir As Deformidades.
- e) Diminuir Os Espaços Entre As Superfícies Da Fratura.

CONHECIMENTOS GERAIS

QUESTÃO 31

A Mangueira é a grande escola campeã do carnaval 2019 do Rio de Janeiro. Para

conquistar o seu 20º título, a Mangueira apresentou o seguinte enredo:

- a) “História pra ninar gente grande”.
- b) “Cada macaco no seu galho. Ó, meu pai, me dê o pão que eu não morro de fome”.
- c) “Quem nunca...? Que atire a primeira pedra!”.
- d) “Quem não viu vai ver...As fábulas do Beija-flor”.
- e) “Me dá um dinheiro aí”.

QUESTÃO 32

“O comitê organizador dos jogos de Tóquio de 2020 apresentou na quarta-feira (20 de março) a tocha olímpica.”

<https://is.gd/JRKKZc> Acesso em 23 de Março de 2019–
Adaptado

Assinale a alternativa *incorreta* a respeito do trecho acima:

- a) Com design moderno, 71 centímetros e 1,2 kg, a tocha tem tons em dourado e rosa e formato de uma flor de cerejeira estilizada.
- b) A tocha é trabalho do designer Tokujin Yoshioka.
- c) O comitê nomeou a cor sakura e ouro - sakura significa flor de cerejeira em japonês.
- d) A árvore cerejeira é símbolo mundial e floresce em distintos períodos do ano, sendo mais de 200 tipos.
- e) A tocha olímpica é feita de alumínio, com 30% de material reciclado de resíduos de construção de habitações temporárias de Iwate, Miyagi e Fukushima, destinadas a pessoas que perderam suas casas no terremoto e tsunami em 2011.

QUESTÃO 33

O ex-presidente Michel Temer foi preso em São Paulo na manhã de quinta-feira (21/03/19) pela força-tarefa da Lava Jato do Rio de Janeiro. Os agentes também prenderam o ex-ministro Moreira Franco no Rio. A prisão de Temer é preventiva, ou seja, sem prazo determinado.

Temer é um dos alvos da Lava Jato do Rio. A prisão teve como base a delação de _____, dono da Engevix. O empresário disse à Polícia Federal que pagou _____, a pedido do coronel João Baptista Lima Filho (amigo de

Caderno de Questões
TÉCNICO DE IMOBILIZAÇÃO ORTOPÉDICA

Temer), do ex-ministro Moreira Franco e com o conhecimento do presidente Michel Temer.

<https://is.gd/HTNFZq> Acesso em 23 de Março de 2019– Adaptado

A Engevix fechou um contrato em um projeto da usina de Angra 3:

- a) Joesley Batista/cem mil em propina.
- b) José Antunes Sobrinho/um milhão em propina.
- c) Vanderlei de Natale/duzentos mil em propina.
- d) Brian Prado/cento e cinquenta mil em propina.
- e) Wellington Moreira Franco/duzentos e vinte mil em propina.

QUESTÃO 34

O naufrágio de uma balsa superlotada deixou dezenas mortos no rio Tigre, em Mossul, no norte do Iraque, na quinta-feira (21/03/19). Ela transportava passageiros da margem do rio para uma pequena ilha turística chamada Um al Rabeein. Segundo o Ministério do Interior iraquiano, 94 pessoas morreram.

A maioria das vítimas são mulheres e crianças que não sabiam nadar, disse o chefe da Defesa Civil de Mossul, Husam Khalil. Cerca de 250 pessoas estavam a bordo, cinco vezes mais que a capacidade da balsa, informou.

<https://is.gd/nzhfQt> Acesso em 23 de Março de 2019– Adaptado

As causas do naufrágio continuam desconhecidas, porém:

- 1. Oficiais iraquianos disseram à AP que houve um problema técnico.
- 2. Fontes disseram que não havia barcos na área o suficiente para resgatar as vítimas.
- 3. Suspeita-se também de que a abertura das barragens pode ter causado aumento no nível de água, o que pode ter desestabilizado a embarcação.

Está (ão) correta (s) a (s) alternativa(s):

- a) 1 apenas.
- b) 1 e 2 apenas.
- c) 1, 2 e 3.
- d) 2 e 3 apenas.
- e) 2 apenas.

QUESTÃO 35

O comitê organizador da Olimpíada de 2020, em Tóquio, anunciou na madrugada de 22/7/18 o nome dos mascotes da Olimpíada e Paraolimpíada. Suas figuras já eram conhecidas, mas o batismo aconteceu em cerimônia transmitida ao vivo nas redes sociais. Assim sendo, o mascote dos Jogos Olímpicos foi chamado de _____, que na escrita japonesa é a junção das palavras 未来 (futuro) e 永遠 (eternidade). Já o mascote paraolímpico foi batizado de _____.

<https://is.gd/EfgMdo> Acesso em 23 de Março de 2019– Adaptado

Na língua portuguesa significa "tão poderoso".

- a) Shitennoji/ Someity.
- b) Mie Ken/ Miraitowa.
- c) Keio/ Odakyu.
- d) Shinjuku/ Mie Ken.
- e) Miraitowa/ Someity,

QUESTÃO 36

O ciclone Idai, que atingiu o sudeste da África, neste mês de março, particularmente a costa de Moçambique com maior força, começa a revelar seus estragos uma semana depois. Imagens do sistema de satélites da Agência Espacial Europeia mostram que cerca de 2.600 quilômetros quadrados de terra estão inundados apenas na região de Beira, em Moçambique. Os números da destruição causada pelo fenômeno impressionam. Apenas nas províncias de Sofala e Manica — as mais afetadas pelo ciclone são 109.528 pessoas diretamente afetadas.

<https://is.gd/LeuSZe> Acesso em 24 de Março de 2019– Adaptado

() A cidade de Beira ficou devastada porque, ao chegar na região costeira, a umidade do oceano alimentou a potência do ciclone.

() Governo de Moçambique confirma 242 mortos após ciclone.

() A ONU já considera que o ciclone pode ter sido o "pior desastre climático que se abateu sobre o hemisfério norte".

() Se comparado com o furacão Florence e o furacão Michael, que atingiram os EUA no ano passado, o ciclone Idai já matou pelo menos o triplo de pessoas até o momento.

Caderno de Questões
TÉCNICO DE IMOBILIZAÇÃO ORTOPÉDICA

As afirmativas são, respectivamente, de cima para baixo:

- a) V, V, F e V.
- b) V, V, V e V.
- c) V, V, F, e F.
- d) F, F, V e V.
- e) V, F, V e F.

QUESTÃO 37

Os muçulmanos voltaram no sábado (23/03/19) à mesquita de Al Noor, pela primeira vez desde o massacre de 50 fiéis por um extremista australiano, no dia 15 de março. Após o ataque perpetrado por Brenton Tarrant, um supremacista branco de 28 anos, contra duas mesquitas dessa cidade do sul da Nova Zelândia, a polícia havia fechado Al Noor por motivos de segurança e para facilitar as investigações. Pequenos grupos de fiéis da comunidade muçulmana local foram autorizados a entrar em Al Noor no sábado, 23/3. "Recebemos as pessoas em grupos de 15, para ir recuperando uma certa normalidade", explicou Saiyad Hassen, voluntário na mesquita. "No momento não é possível dizer quando tudo voltará ao normal", disse Hassen.

<https://is.gd/fol9we> Acesso em 25 de Março de 2019–
Adaptado

Esse fato aconteceu na cidade de:

- a) Auckland.
- b) Wellington.
- c) Queenstown.
- d) Christchurch.
- e) Tauranga.

QUESTÃO 38

Depois de abrir as visitas a chefes de Estado com a viagem aos Estados Unidos, o presidente Jair Bolsonaro chegou ao Chile na quinta-feira (21/3) para um encontro com líderes de outros países da América do Sul na sexta-feira e para se reunir com o presidente chileno, Sebastián Piñera, no sábado.

A escolha do Chile como primeiro destino de viagem na América do Sul do presidente Jair Bolsonaro é explicada pelo governo brasileiro com base em três motivações.

<https://is.gd/4acxz7> Acesso em 25 de Março de 2019–
Adaptado

Analise as afirmativas abaixo:

- 1. O alinhamento ideológico entre os dois

presidentes.

- 2. A oportunidade de reunir uma nova cúpula de países da América do Sul.
- 3. O fato de o Chile ser o segundo principal parceiro comercial com o Brasil da região.
- 4. Um ponto interessante é que algumas empresas brasileiras têm criado sede em Santiago para usar os acordos de livre-comércio do Chile.
- 5. O presidente brasileiro havia prometido a Sebastián Piñera que visitaria seu país tão logo assumisse o governo do Brasil.

As afirmativas verdadeiras que traduzem as três motivações, são, respectivamente, de cima para baixo:

- a) 1, 2 e 4.
- b) 1, 3, e 5.
- c) 3, 4 e 5.
- d) 2, 3 e 4.
- e) 1, 2 e 3.

QUESTÃO 39

Morre no Rio, em 23 de março último, o autor, diretor e ator Domingos Oliveira. Tinha 82 anos e se sentiu mal em casa. Apesar de doente na última década – sofria de Mal de Parkinson – e com dificuldades para andar, o artista nunca parou de produzir.

<https://is.gd/fVitYd> Acesso em 26 de Março de 2019–
Adaptado

O artista se consagrou com os filmes:

- a) Casa de Areia/Amarelo Manga.
- b) Todas as mulheres do mundo/Barata Ribeiro, 716.
- c) Cidade de Deus/ Carandiru.
- d) O Lobo Atrás da Porta/Tatuagem.
- e) O cangaceiro/O som ao redor.

QUESTÃO 40

Medidas preventivas contra o *Aedes aegypti* devem ser reforçadas o ano todo, já que o mosquito também se prolifera no frio.

No país o aumento de casos da dengue foi de 264%. Foram registrados 229.064 casos nas primeiras 11 semanas de 2019 (até 16 de março). No mesmo período de 2018 foram registrados 62,9 mil casos de dengue.

<https://is.gd/7pTf0j> Acesso em 26 de Março de 2019–
Adaptado

Caderno de Questões
TÉCNICO DE IMOBILIZAÇÃO ORTOPÉDICA

De acordo com a pasta, metade de todas as mortes registradas neste ano no Brasil por causa da doença - 31 dos 62 óbitos foi no estado:

- a) Da Paraíba.
- b) Do Rio de Janeiro.
- c) De São Paulo.
- d) De Alagoas.
- e) Do Pará.