



**CÂMARA MUNICIPAL DE PEREIRAS - ESTADO DE SÃO  
PAULO**

**CONCURSO PÚBLICO N º 01/2018**

**MOTORISTA**

---

**CADERNO DE  
QUESTÕES**

---

**ABRA SOMENTE QUANDO AUTORIZADO**

---

Nome do Candidato: \_\_\_\_\_

Assinatura: \_\_\_\_\_

**Concurso Realizado pela:**



**Planexcon**  
ASSESSORIA E CONSULTORIA PÚBLICA

**Contato:**

[contato@planexcon.com.br](mailto:contato@planexcon.com.br)

Tel0xx15 3282-3542

## INSTRUÇÕES

1. Este Caderno contém 09 páginas com questões de múltipla escolha, assim distribuídas:
  - **Língua Portuguesa**, com 10 questões, enumeradas de 01 a 10;
  - **Matemática**, com 10 questões, enumeradas de 11 a 20;
  - **Conhecimentos Específicos**, com 15 questões, enumeradas de 21 a 35.
  - **Conhecimentos Gerais**, com 05 questões, enumeradas de 36 a 40.
2. Cada questão contém 5 (cinco) alternativas (a, b, c, d, e), das quais somente uma atende às condições do enunciado.
3. Esta prova terá a duração de 3 (três) horas, incluído o tempo necessário para preenchimento do Gabarito de Resposta, sendo permitida a saída do candidato da sala de prova somente após 30 minutos do seu início.
4. Responda a todas as questões. Para cômputo da nota, serão considerados apenas os acertos.
5. Não será permitido ao candidato o destaque de qualquer página da prova.
6. Não é permitido, em hipótese alguma, o empréstimo de qualquer objeto.
7. Não se atenha às questões que julgar difíceis, volte a elas se lhe sobrar tempo.
8. Estando as questões respondidas neste caderno, você deverá transcrever todas as alternativas assinaladas para o Gabarito de Respostas, utilizando caneta esferográfica de tinta preta ou azul.
9. Você receberá do Fiscal o Gabarito de Respostas. Verifique se estão em ordem e com todos os dados impressos corretamente. Caso contrário, notifique o Fiscal, imediatamente.
10. Após certificar-se de que a Gabarito de Respostas é seu, assine-o com caneta esferográfica de tinta preta ou azul no local em que há a indicação: "ASSINATURA DO (A) CANDIDATO (A)".
11. A folha de respostas não deve ser dobrada, amassada ou rasurada.
12. É de inteira responsabilidade do candidato qualquer prejuízo advindo de marcação incorreta efetuada no Gabarito de Respostas - Atenção: **O Gabarito de Respostas não será substituído em hipótese alguma.**
13. Serão nulas as respostas rasuradas ou múltiplas para uma mesma questão.

***Boa Prova!***

## LÍNGUA PORTUGUESA

As questões de números 01 a 04 devem ser resolvidas com base no texto que segue:



<http://planetamongo.files.wordpress.com/2011/03/mafaldaesusantant.jpg>

### QUESTÃO 01

Em “*Teu pai é muito original no deitar-se para descansar*”, o autor quis deixar claro que:

- Suzanita quer ser mãe e o pai de Mafalda entendeu a resposta corretamente, por isso deitou-se de modo original.
- O pai de Mafalda se deita de um modo original, para esperar Suzanita ser mãe.
- Suzanita entendeu corretamente o que aconteceu com o pai de Mafalda.
- O pai de Mafalda desmaiou.
- O pai de Mafalda sabe deitar bem.

### QUESTÃO 02

Em “O que vai ser **quando** crescer Suzanita?” A palavra em destaque indica uma:

- Circunstância de tempo.
- Explicação.
- Causa.
- Concessão.
- Condição.

### QUESTÃO 03

Observe o último quadrinho da tirinha e identifique a figura de linguagem nele expressa. Ela corresponde a:

- Ironia.

- Antítese.
- Eufemismo.
- Hipérbole.
- Metáfora.

### QUESTÃO 04

No mesmo quadrinho da questão anterior, “*Teu pai é muito original no deitar-se para descansar*”, nesse caso, a função do pronome “**se**” é:

- Partícula recíproca.
- Índice de indeterminação do sujeito.
- Partícula de realce ou expletiva.
- Partícula reflexiva.
- Partícula integrante do verbo.

As questões de números 05 a 08 devem ser resolvidas com base no texto que segue:

O louquinho estava parado com um cordão amarrado na ponta de uma vassoura, pescando, na maior concentração. Mas não tinha anzol no cordão. Mesmo assim, de vez em quando, o louco dava um puxão.

- Tá fazendo o que aí, ô biruta? – perguntou alguém que passava por ali.  
- Tô pescando, não está vendo?  
- Ah, é? Pescando sem anzol?  
- E daí? Aqui não tem peixe...

<https://br.answers.yahoo.com>

### QUESTÃO 05

Com referência à acentuação gráfica dos vocábulos **alguém** e **daí**, assinale a alternativa **correta**:

- A palavra “**alguém**” leva acento pela mesma regra que a palavra “**daí**”, pois ambas são paroxítonas.
- A palavra “**alguém**” é acentuada por ser oxítona terminada em “em” e a palavra “**daí**” é acentuada por ser oxítona terminada em “i”.
- Ambas são acentuadas pela seguinte regra: acentuam-se as palavras dissílabas tônicas terminadas em “m” e “i”.
- A palavra “**alguém**” é acentuada, pois acentuam-se as palavras oxítonas terminadas em “m” e “daí” por ser uma palavra monossílaba terminada em “i”.
- A palavra “**alguém**” é acentuada pela mesma regra que a palavra “**vintém**” e a

Caderno de Questões  
MOTORISTA

palavra “daí” é acentuada por ser paroxítona terminada em “i”.

**QUESTÃO 06**

No segmento “Tá fazendo o que aí, ô biruta? - perguntou alguém que passava por ali”, o vocábulo sublinhado é classificado como:

- a) Conjunção subordinativa.
- b) Pronome indefinido.
- c) Pronome relativo.
- d) Substantivo.
- e) Interjeição.

**QUESTÃO 07**

Em “O louquinho estava parado com um cordão amarrado na ponta de uma vassoura”, temos uma oração:

- a) Principal.
- b) Subordinada adverbial adjetiva.
- c) Subordinada adverbial temporal.
- d) Subordinada adjetiva restritiva.
- e) Coordenada sindética.

**QUESTÃO 08**

Em “- Tá fazendo o que aí, ô biruta? - perguntou alguém que passava por ali.” a função morfológica dos vocábulos sublinhados é:

- a) Conjunção/Pronome.
- b) Substantivo/Pronome.
- c) Adjetivo/Preposição.
- d) Artigo/Conjunção.
- e) Pronome/Pronome.

As questões de números 09 a 10 devem ser resolvidas com base no texto que segue:



refreshad.wordpress.com

**QUESTÃO 09**

Leia e analise o texto acima:

- 1. Trata-se de um anúncio publicitário.
- 2. O texto não possui função apelativa, que por sua vez também não tem o intuito de convencer os consumidores.
- 3. É um gênero textual que promove um produto de higiene pessoal.

Está (ão) correta (s) a (s) afirmativa (s):

- a) 1, 2 e 3.
- b) 1 e 2 apenas.
- c) 1 e 3 apenas.
- d) 2 e 3 apenas.
- e) 3 apenas.

**QUESTÃO 10**

As letras destacadas nos vocábulos sorrriso / brilhantes, utilizados no texto acima, são classificadas como:

- a) Dígrafos consonantais.
- b) Ditongos.
- c) Dígrafos vocálicos.
- d) Tritongos.
- e) Hiatos.

**MATEMÁTICA**

**QUESTÃO 11**

Cecília passou pela loja de roupas e viu blusas em promoção, conforme mostra a imagem abaixo. Como gostou dos modelos, decidiu comprar uma. Qual foi a porcentagem de desconto concedido à Cecília:

**PROMOÇÃO: DE R\$ 75,00 / POR R\$ 61,13**



<http://blusasecia.blogspot.com>

- a) 15,5%.
- b) 13,5%.
- c) 10%.

**Caderno de Questões**  
**MOTORISTA**

- d) 18%.
- e) 18,5%.

**QUESTÃO 12**


Com certo número de pacotes de bolachas é possível alimentar 60 crianças de uma creche durante 20 dias. Se a creche tivesse 80 crianças, a mesma quantia de pacotes de bolachas daria para quantos dias:

- a) 12 dias.
- b) 10 dias.
- c) 15 dias.
- d) 11 dias.
- e) 18 dias.

**QUESTÃO 13**

Calcule o perímetro de cada quadrado abaixo apresentado, cuja área está exposta nas figuras:

a)



$A = 289 \text{ cm}^2$

b)



$A = 64 \text{ cm}^2$

O perímetro das figuras corresponde a:

- a) 72 cm e 16 cm.
- b) 68 cm e 32 cm.
- c) 68 cm e 34 cm.
- d) 73 cm e 32 cm.
- e) 89 cm e 17 cm.

**QUESTÃO 14**

Numa escola de informática a média da idade dos alunos do sexo feminino é 12 anos e a dos alunos do sexo masculino é 18 anos. Se nessa escola a quantidade de alunos matriculados é o dobro da quantidade de alunas, a média aritmética da idade dos alunos dessa escola é de:

- a) 16.
- b) 15.
- c) 14.
- d) 13.
- e) 12.

**QUESTÃO 15**

Na sequência de palavras abaixo, há uma determinada regra. Assim sendo, a palavra que substitui o "X" na sequência é:

ascender	destreza	consignar	artesanô	"X"
----------	----------	-----------	----------	-----

- a) Abuse.
- b) Aquele.
- c) Noitada.
- d) Incansável.
- e) Consignação.

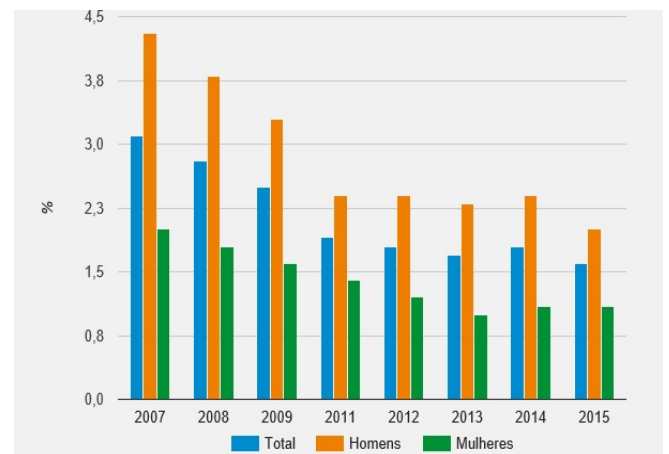
**QUESTÃO 16**

Antônio percorreu com seu carro, 137 quilômetros em 2 horas. Nesse caso, qual a razão entre a distância que o carro percorreu e o tempo que ele gastou para percorrê-lo? Se Antônio viajou para um município onde a distância é de 479,5 quilômetros, em quantas horas a viagem ocorreu:

- a) 67 quilômetros por hora/ 8 horas.
- b) 68,5 quilômetros por hora/ 7 horas.
- c) 68 quilômetros por hora/ 7 horas.
- d) 65 quilômetros por hora/ 9 horas.
- e) 72 quilômetros por hora/ 6 horas.

**QUESTÃO 17**

Observe o gráfico da taxa de analfabetismo das pessoas de 10 a 14 anos no Brasil:



Fonte: IBGE, Diretoria de Pesquisas, Coordenação de Trabalho e Rendimento, Pesquisa Nacional por Amostra de Domicílios 2007/2015.

Ao interpretarmos o gráfico acima podemos concluir que:

1. De acordo com o IBGE (Instituto Brasileiro de Geografia e Estatística), entre 2007 e 2013 foi registrada queda do analfabetismo entre homens e mulheres.

**Caderno de Questões**  
**MOTORISTA**

2. A taxa de analfabetismo referente aos homens é maior que a das mulheres de 2007 a 2015.
3. A taxa de mulheres analfabetas apresenta-se menor no ano de 2013.

Está (ão) correta (s) a (s) alternativa (s):

- a) 1, 2 e 3.  
b) 1 e 2 apenas.  
c) 1 e 3 apenas.  
d) 2 e 3 apenas.  
e) 3 apenas.

**QUESTÃO 18**

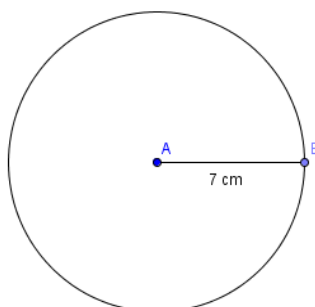
Cinco pintores pintaram uma parede cuja área é de  $300 \text{ m}^2$  em 2 horas. Se o trabalho for realizado no mesmo ritmo, serão necessários para pintar a próxima parede que possui uma área de  $420 \text{ m}^2$ , em apenas uma hora, um total de pintores:



- a) 11.  
b) 12.  
c) 13.  
d) 14.  
e) 15.

**QUESTÃO 19**

Para enfeitar uma pequena mesinha, Luiza fez uma toalhinha circular conforme mostra a figura abaixo. Considerando  $\pi = 3,14$  o comprimento da toalhinha é de:



- a) 45 cm.  
b) 42 cm.  
c) 21,98 cm.  
d) 11,98 cm.  
e) 43,96 cm.

**QUESTÃO 20**

Para suas vestes diárias, Cássia tem três cores de calças: preta, branca e marrom. Tem duas blusas: uma branca e outra vermelha. Quanto aos calçados possui quatro opções: uma sandália branca, uma sandália preta, uma sandália vermelha e outra marrom. Considerando todas as opções, de quantas maneiras ela poderá se vestir:

- a) 9.  
b) 12.  
c) 24.  
d) 28.  
e) 32.

**CONHECIMENTOS ESPECÍFICOS**

**QUESTÃO 21**

Os veículos em geral dispõem de equipamentos e importantes sistemas que visam, dentre outras funções, manter a segurança na sua direção.

A respeito dos sistemas dos veículos, relacione corretamente as colunas:

- 1 – Sistema elétrico.  
2 – Sistema de distribuição.  
3 – Sistema de arrefecimento.  
4 – Sistema de rodagem.

- ( ) Dividido em rodas e pneus.  
( ) Tem a função de gerar / armazenar / distribuir energia para todas as funções do carro.  
( ) Distribui a mistura (ar e combustível) para o motor e elimina os gases produzidos pela queima do combustível.  
( ) Reduz o calor produzido em excesso pelo motor através de água ou ar, conforme o caso.

A sequência correta encontrada é:

- a) 1, 2, 3 e 4.  
b) 1, 2, 4 e 3.



**Caderno de Questões**  
**MOTORISTA**

- c) 1, 3, 4 e 2.
- d) 2, 3, 4 e 1.
- e) 2, 4, 3 e 1.

**QUESTÃO 22**

A principal função do radiador, no sistema de refrigeração, é:

- a) A troca de calor entre o ar e outras substâncias, em geral líquidos, presentes em um sistema fechado, mantendo o veículo a uma temperatura ideal para o seu funcionamento.
- b) Evitar a passagem de sujeira do tanque do veículo para o motor.
- c) Fornecer combustível pressurizado ao carburador ou bicos injetores do motor.
- d) Bombear o líquido de arrefecimento para circular no sistema, acionado em geral pela correia junto com o alternador.
- e) Controlar os níveis do líquido de arrefecimento no sistema.

**QUESTÃO 23**

Qual dos equipamentos abaixo não compõe o sistema elétrico de um veículo automotor:

- a) Motor de partida.
- b) Alternador.
- c) Vela.
- d) Bateria.
- e) Braço de Direção.

**QUESTÃO 24**

Analise os itens abaixo:

- 1 – Economia com peças.
- 2 – Menor consumo de combustível.
- 3 – Segurança no trânsito.
- 4 – Contribuir com o mercado de peças e equipamentos.
- 5 – Evitar o desgaste excessivo dos pneus.

Das opções acima, quais devem ser levados em conta por um motorista, quando pretende realizar a manutenção preventiva de um veículo:

- a) 1-2-3-4.
- b) 1-2-4-5.
- c) 2-3-4-5
- d) 1-2-3-5
- e) Todas as alternativas.

**QUESTÃO 25**

Todos os brasileiros enfrentaram nessas últimas semanas as consequências decorrentes da “greve dos caminhoneiros”. Muitos setores foram afetados, em especial o abastecimento de combustível. Noticiou-se um aumento significativo do número de veículos parados nas estradas por conta da falta de combustível. Este fato também é conhecido como “pane seca” e, nos termos do Código de Trânsito Brasileiro – Lei nº 9.503/97, constitui infração de trânsito de natureza:

- a) Baixa.
- b) Leve.
- c) Média.
- d) Grave.
- e) Gravíssima.

**QUESTÃO 26**

Analise a imagem abaixo.



Este sinal de regulamentação, significa:

- a) Comprimento máximo permitido.
- b) Comprimento médio permitido.
- c) Comprimento mínimo permitido.
- d) Distância de um veículo ao outro.
- e) Distância de 10 metros entre eixos.

**QUESTÃO 27**

Nos termos disciplinados pelo Código de Trânsito Brasileiro, o candidato à habilitação deverá submeter-se a determinados exames realizados pelo órgão executivo de trânsito. Independente da ordem, quais das opções abaixo não representa um exame obrigatório:

- a) Aptidão física e mental.
- b) Exame escrito sobre legislação de trânsito.
- c) Noções de primeiros socorros, conforme



**Caderno de Questões**  
**MOTORISTA**

regulamentação do Contran.

- d) Exame toxicológico.
- e) Direção veicular, realizado na via pública, em veículo da categoria para a qual estiver habilitando-se.

**QUESTÃO 28**

Para habilitar-se nas categorias D e E ou para conduzir veículo de transporte coletivo de passageiros, de escolares, de emergência ou de produto perigoso, o candidato deve preencher determinados requisitos. Quais das opções abaixo não representa um desses requisitos:

- a) Ser maior de vinte e um anos.
- b) Estar habilitado no mínimo há dois anos na categoria B, ou no mínimo há um ano na categoria C, quando pretender habilitar-se na categoria D; e no mínimo há um ano na categoria C, quando pretender habilitar-se na categoria E.
- c) Não ter cometido nenhuma infração grave ou gravíssima ou ser reincidente em infrações médias durante os últimos doze meses.
- d) Ser aprovado em curso especializado e em curso de treinamento de prática veicular em situação de risco, nos termos da normatização do Contran.
- e) Ser aprovado em exame físico e psicológico.

**QUESTÃO 29**

Nos termos do Código de Trânsito Brasileiro, qual das opções abaixo indica a classificação de veículo quanto à sua tração.

- a) Automotor.
- b) Ciclomotor.
- c) Triciclo.
- d) Quadriciclo.
- e) Automóvel.

**QUESTÃO 30**

A Resolução nº 160, de 22 de abril de 2004, aprovou o Anexo II do Código de Trânsito Brasileiro, e atualmente disciplina as regras sobre placas de trânsito em geral. A placa de identificação quilométrica é uma placa de sinalização de indicação de vias, e possui como característica:

- a) Forma retangular, com lado maior na horizontal, cor do fundo azul, orla interna

branca, orla externa azul, tarja branca quadrada, com lado maior na vertical e legendas brancas.

- b) Forma retangular, com lado maior na vertical, cor do fundo azul, orla interna branca, orla externa azul, tarja branca retangular, com lado maior na vertical e legendas brancas.
- c) Forma retangular, cor do fundo branca, letras e números azuis e legendas brancas.
- d) Forma circular, fundo amarelo, orla interna preta, orla externa amarela, legenda preta e tarja preta.
- e) Forma triangular, cor do fundo azul, orla interna branca, orla externa azul, tarja branca quadrada, com lado maior na vertical e legendas brancas.

**QUESTÃO 31**

A Lei nº 13.290, que entrou em vigor em 2016, também conhecida como “lei do farol aceso”, alterou o artigo 40 do Código de Trânsito Brasileiro e passou a exigir que o condutor:

- a) Nas vias não iluminadas, use luz alta em todas as situações.
- b) Utilize os faróis do veículo em imobilizações ou situações de emergência.
- c) Mantenha acesos os faróis do veículo, utilizando luz baixa, durante a noite e durante o dia nos túneis providos de iluminação pública e nas rodovias.
- d) Durante o dia, em circulação, mantenha acesa a luz de placa.
- e) Mantenha acesa luz alta do veículo quando sob chuva forte, neblina ou cerração.

**QUESTÃO 32**

Considere as assertivas abaixo elencadas de acordo com as regras de trânsito e assinale V para a verdadeira e F para a falsa:

(     ) O condutor de veículo poderá fazer uso de buzina, desde que em toque breve, para fazer as advertências necessárias a fim de evitar acidentes.

(     ) Antes de entrar à direita ou à esquerda, em outra via ou em lotes lindeiros, o condutor deverá ao sair da via pelo lado direito, aproximar-se o máximo possível do bordo direito da pista e executar sua manobra no menor espaço possível.

**Caderno de Questões**  
**MOTORISTA**

(     ) Nenhum condutor deverá frear bruscamente seu veículo, salvo por razões de segurança.

(     ) Todo condutor, ao perceber que outro que o segue tem o propósito de ultrapassá-lo, deverá, se estiver circulando pela faixa da esquerda, deslocar-se para a faixa da direita, acelerando a marcha.

As afirmativas são, respectivamente, de cima para baixo:

- a) V- F- V- V.
- b) V- V- V- F.
- c) F- V- F- V.
- d) F- F- V- F.
- e) V- V- F- V.

**QUESTÃO 33**

As infrações de trânsito são computadas com os seguintes números de pontos:

- a) Gravíssima – nove pontos.
- b) Grave – sete pontos.
- c) Média – cinco pontos.
- d) Leve - quatro pontos.
- e) Todas estão incorretas.

**QUESTÃO 34**

Considere as seguintes infrações de trânsito:

- 1. Rebocar outro veículo com cabo flexível ou corda, salvo em casos de emergência:
- 2. Conduzir veículo sem os documentos de porte obrigatório referidos no Código de Trânsito Brasileiro.
- 3. Transitar com o veículo danificando a via, suas instalações e equipamentos.
- 4. Ultrapassar veículos em fila, parados em razão de sinal luminoso, cancela, bloqueio viário parcial ou qualquer outro obstáculo, com exceção dos veículos não motorizados.

Numere as penalidades a seguir de acordo as infrações acima elencadas:

- (     ) Infração – média; Penalidade - multa.
- (     ) Infração – leve; Penalidade - multa.
- (     ) Infração – gravíssima; Penalidade – multa; Medida administrativa - retenção do veículo para regularização.
- (     ) Infração – grave; Penalidade - multa.

Assinale a sequência correta de cima para baixo:

- a) 1 - 2 - 4 - 3.
- b) 3 - 4 - 1 - 2.
- c) 1 - 2 - 3 - 4.
- d) 3 - 1 - 4 - 2.
- e) 4 - 3 - 1 - 2.

**QUESTÃO 35**

Quais das opções abaixo não constitui uma penalidade administrativa aplicável às infrações de trânsito:

- a) Advertência por escrito.
- b) Pena de detenção.
- c) Suspensão do direito de dirigir.
- d) Cassação da Carteira Nacional de Habilitação.
- e) Frequência obrigatória em curso de reciclagem.

**CONHECIMENTOS GERAIS**

**QUESTÃO 36**

Os ataques de mísseis dos EUA, Reino Unido e França à Síria no dia 14 de abril de 2018, mostraram que estes tiveram um impacto limitado na capacidade do presidente sírio, Bashar al-Assad, pois tinham como objetivo principal:

- a) Bombardear as cidades sitiadas pelo exército do governo sírio, dando início a uma guerra contra o ditador.
- b) Destruir todos os alvos ligados a produção de armas bélicas, químicas e biológicas espalhados pelo território.
- c) Atingir alvos específicos para punir o governo sírio e impedi-lo de realizar novos ataques químicos a civis.
- d) Demonstrar ao governo da Rússia Vladimir Putin o poderio militar em ataques estratégicos.
- e) Destruir arsenais militares do governo sírio para evitar novos ataques a população.

**QUESTÃO 37**

Até a Segunda Guerra Mundial, Coreia do Norte e Coreia do Sul eram um único território, a Coreia. Na esteira da bipolarização por conta da Guerra Fria, Estados Unidos e União Soviética

## Caderno de Questões MOTORISTA

alimentaram tensões internas na região, o que levou à Guerra da Coreia em 1950. No conflito, os EUA ficaram do lado sul-coreano, enquanto a União Soviética e a China defenderam a Coreia do Norte, que teve sua infraestrutura destruída após o conflito. Atualmente a Coreia do Norte vem se destacando nos noticiários internacionais e o motivo está relacionado:

- Ao estabelecimento de alianças comerciais em reuniões com o governo norte americano.
- Aos intensos testes nucleares em seu território, justificados como necessários para bloquear o imperialismo norte americano.
- A abertura política e econômica definidas em acordos com o G7 e a OMC (Organização mundial do Comércio).
- As constantes ameaças de ataques com mísseis teleguiados a território russo.
- A reunificação entre a Coreia do Norte e a Coreia do Sul após 70 anos de separação.

### **QUESTÃO 38**

O fluxo migratório recente de venezuelanos ao Brasil em busca de refúgio ou de oportunidades de sobrevivência vem gerando tensão na recepção e acolhimento em cidades do estado fronteiro de Roraima e leva seus gestores a cobrar medidas do Governo Federal, entre as quais a redistribuição geográfica desses migrantes para outras partes do país.

[https://brasil.elpais.com/brasil/2018/04/10/opinion/1523393064\\_479158.html](https://brasil.elpais.com/brasil/2018/04/10/opinion/1523393064_479158.html) Acesso 30/04/2018.

A migração da população venezuelana ao Brasil tem como causa:

- Retardamento econômico e instabilidade política gerada pelo processo eleitoral e constitucional.
- Conflitos entre grupos opositores e o governo gerando ataques violentos à população.
- A abertura econômica entre Brasil e Venezuela e incentivos governamentais à migração.
- Crescimento demográfico impedindo o desenvolvimento econômico da Venezuela.
- Implantação de práticas socialistas que desagradam a maioria da população.

### **QUESTÃO 39**

Belo Monte, maior hidrelétrica 100% nacional, instalada no rio Xingu, no sudoeste do estado do Pará. Em operação desde abril de 2016, Belo Monte já conta com 14 das suas 24 unidades geradoras em atividade. A procuradora da República Jerusa Burmann Viecili, da força-tarefa da Operação Lava Jato, do Ministério Público Federal, em Curitiba, aponta que as obras da Usina Hidrelétrica de Belo Monte causaram 'graves impactos ambientais' e também 'prejuízo econômico para a sociedade'.

<http://politica.estadao.com.br/blogs/fausto-macedo/Acesso30/04/2018>.



Os problemas causados pela construção da barragem de Belo Monte no Pará citados no texto e em destaque no gráfico são:

- Conflitos entre latifundiários e populações ribeirinhas por terras remanescentes à construção da usina de Belo Monte.
- Aumento da violência causadas pelos conflitos entre a população local e ambientalistas.
- Inundação de terras indígenas e a remoção de comunidades que ali sobreviviam da floresta para áreas urbanas, promovendo graves problemas de infraestrutura.
- Desvio do rio Xingu e aumento da violência devido a quantidade de pessoas que se deslocaram ao local.
- O aumento de água no rio Xingu prejudicando agricultores locais e afetando comunidades indígenas.

### **QUESTÃO 40**

A organização de Direitos Humanos Justiça Global enviou um informe à Organização das Nações Unidas (ONU) e à Organização dos

Caderno de Questões  
MOTORISTA

---

Estados Americanos (OEA) denunciando a intervenção militar decretada pelo Governo Federal no Estado do Rio de Janeiro. O documento aponta diversas irregularidades no decreto que instituiu a intervenção, além de sinalizar sua absoluta incompatibilidade com os tratados e convenções internacionais, dos quais o Brasil é signatário.

*<https://www.revistaforum.com.br/justica-global>. Acesso 30/04/2018.*

Segundo as organizações internacionais a intervenção no estado do Rio de Janeiro:

- a) É necessária para a ampliação das liberdades civis proposta pelas organizações internacionais.
- b) Garante os direitos individuais de toda a população do Rio de Janeiro, sobretudo as populações negras e pobres, moradoras de favelas e periferias urbanas.
- c) É uma urgência pública, que respeita os direitos humanos, os poderes constitucionais e os tratados internacionais.
- d) Respeita a Constituição que autoriza que a autoridade política dos estados seja transferida da esfera civil para a esfera militar de forma democrática.
- e) É um declínio das garantias constitucionais, dos princípios democráticos e das políticas sociais no país.