



**PREFEITURA MUNICIPAL DE ITAPIRAPUÃ PAULISTA
ESTADO DE SÃO PAULO**

CONCURSO PÚBLICO N ° 01/2018

MONITOR DE INFORMÁTICA

**CADERNO DE
QUESTÕES**

ABRA SOMENTE QUANDO AUTORIZADO

Nome do Candidato: _____

Assinatura: _____

Concurso Realizado pela:



Planexcon
ASSESSORIA E CONSULTORIA PÚBLICA

Contato:

contato@planexcon.com.br

Tel.0xx15 3282.3542

INSTRUÇÕES

1. Este Caderno contém 08 páginas com questões de múltipla escolha, assim distribuídas:
 - **Língua Portuguesa**, com 10 questões, enumeradas de 01 a 10;
 - **Matemática**, com 10 questões, enumeradas de 11 a 20;
 - **Conhecimentos Específicos**, com 10 questões, enumeradas de 21 a 30.
 - **Conhecimentos Gerais**, com 10 questões, enumeradas de 31 a 40.
2. Cada questão contém 5 (cinco) alternativas (a, b, c, d, e), das quais somente uma atende às condições do enunciado.
3. Esta prova terá a duração de 3 (três) horas, incluído o tempo necessário para preenchimento do Gabarito de Resposta, sendo permitida a saída do candidato da sala de prova somente após 30 minutos do seu início.
4. Responda a todas as questões. Para cômputo da nota, serão considerados apenas os acertos.
5. Não será permitido ao candidato o destaque de qualquer página da prova.
6. Não é permitido, em hipótese alguma, o empréstimo de qualquer objeto.
7. Não se atenha às questões que julgar difíceis, volte a elas se lhe sobrar tempo.
8. Estando as questões respondidas neste caderno, você deverá transcrever todas as alternativas assinaladas para o Gabarito de Respostas, utilizando caneta esferográfica de tinta preta ou azul.
9. Você receberá do Fiscal o Gabarito de Respostas. Verifique se estão em ordem e com todos os dados impressos corretamente. Caso contrário, notifique o Fiscal, imediatamente.
10. Após certificar-se de que a Gabarito de Respostas é seu, assine-o com caneta esferográfica de tinta preta ou azul no local em que há a indicação: "ASSINATURA DO (A) CANDIDATO (A)".
11. A folha de respostas não deve ser dobrada, amassada ou rasurada.
12. É de inteira responsabilidade do candidato qualquer prejuízo advindo de marcação incorreta efetuada no Gabarito de Respostas - Atenção: **O Gabarito de Respostas não será substituído em hipótese alguma.**
13. Serão nulas as respostas rasuradas ou múltiplas para uma mesma questão

Boa Prova!

LÍNGUA PORTUGUESA

Leia o texto abaixo para responder as questões de números 1 a 6

Caso de Secretária

Foi trombudo para o escritório. Era dia de seu aniversário, e a esposa nem sequer o abraçara, não fizera a mínima alusão à data. As crianças também tinham se esquecido. Então era assim que a família o tratava? Ele que vivia para seus, que se arrebatava de trabalhar, não merecer um beijo, uma palavra ao menos! Mas no escritório, havia flores à sua espera, sobre a mesa. Havia o sorriso e o abraço da secretária, que poderia muito bem ter ignorado o aniversário, e entretanto o lembrava. Era mais do que uma auxiliar, atenta, experimentada e eficiente, pé-de-boi da firma, como até então a considerara; era um coração amigo. Passada a surpresa, sentiu-se ainda mais borocochô: o carinho da secretária não curava, abria mais a ferida. Pois então uma estranha se lembrava dele com tais requintes, e a mulher e os filhos, nada? Baixou a cabeça, ficou rodando o lápis entre os dedos, sem gosto para viver. Durante o dia, a secretária redobrou de atenções. Parecia querer consolá-lo, como se medisse toda sua solidão moral, o seu abandono. Sorria, tinha palavras amáveis, e o ditado da correspondência foi entremeado de suaves brincadeiras da parte dela. -O Senhor vai comemorar em casa ou numa boate?

Engasgado, confessou-lhe que em parte nenhuma. Fazer anos é uma droga, *ninguém gostava dele neste mundo, iria rodar por aí à noite, solitário, como o lobo da estepe.* - Se o senhor quisesse, podíamos jantar juntos - insinuou ela, discretamente. E não é que podia mesmo? Em vez de passar uma noite besta, ressentida - o pessoal lá de casa pouco tá ligando -, teria horas amenas, em companhia de uma mulher que - reparava agora - era bem bonita. Daí por diante o trabalho foi nervoso, nunca mais que se fechava o escritório. Teve vontade de mandar todos embora, para que todos comemorassem o seu aniversário, ele principalmente. Conteve-se, no prazer ansioso da espera. - Onde você prefere ir? - perguntou, ao saírem. - Se não se importa, vamos passar

primeiro em meu apartamento. Preciso trocar de roupa. Ótimo, pensou ele; - faz-se a inspeção prévia do terreno, e, quem sabe? - Mas antes quero um drinque, para animar - ele retificou. Foram ao drinque, ele recuperou não só a alegria de viver e fazer anos, como começou a fazê-los pelo avesso, remoçando. Saiu bem mais jovem do bar, e pegou-lhe do braço. No apartamento, ela apontou-lhe o banheiro e disse que o usasse sem cerimônia. Dentro de quinze minutos ele poderia entrar no quarto, não precisava bater - e o sorriso dele, dizendo isto, era uma promessa de felicidade. Ele nem percebeu ao certo se estava arrumando ou se desarrumando, de tal modo os quinze minutos se atropelaram, querendo virar quinze segundos, no calor escaldante do banheiro e da situação. Liberto da roupa incômoda abriu a porta do quarto. Lá dentro, sua mulher e seus filhinhos, em coro com a secretária, esperavam-no cantando "Parabéns pra você".

Carlos Drummond de Andrade. Poesia e prosa. Rio de Janeiro, Nova Aguilar, 1988

QUESTÃO 01

De acordo com o texto "*Caso de Secretária*" o principal assunto por ele abordado é:

- a) A secretária que não esqueceu do aniversário do chefe.
- b) A comemoração do aniversário que foi esquecido pela família.
- c) A comemoração surpresa do aniversário.
- d) O dia chato e aborrecido que ele passou em plena data de aniversário.
- e) Como foi esquecido pela família no dia de seu aniversário, resolveu ir até o apartamento da secretária para juntos comemorem o aniversário.

QUESTÃO 02

O gênero textual utilizado por Drummond, para a produção do texto "*Caso de secretária*" é:

- a) Conto.
- b) Crônica.
- c) Biografia.
- d) Artigo.
- e) Resenha.

QUESTÃO 03

Considere os fragmentos do texto: "*Foi **trombudo** para o escritório.*" "*Passada a*

surpresa, sentiu-se ainda mais **borocochô**: o carinho da secretária não curava, abria mais a ferida.”

É possível substituir os termos em destaque, na ordem em que aparecem e, sem prejuízo de entendimento, por:

- a) Lúgubre/ Envelhecido.
- b) Patético/ Deprimido.
- c) Sórdido/ Desestimulado.
- d) Carrancudo/ Desanimado.
- e) Parvo/ Apagado.

QUESTÃO 04

Observe o seguinte fragmento do texto: **“Foram ao drinque, ele recuperou não só a alegria de viver e fazer anos, como começou a fazê-los pelo avesso, remoçando”.**

Podemos destacar, no trecho destacado, o uso sequencial de três recursos estilísticos, no intuito de atribuir um sentido mais aprofundado às expressões. Esses recursos são figuras de linguagem, na ordem que se apresentam, denominadas:

- a) Metonímia – Metáfora – Comparação.
- b) Personificação – Metáfora – Metonímia.
- c) Catacrese – Comparação – Catacrese.
- d) Personificação – Comparação – Catacrese.
- e) Metáfora – Comparação – Metonímia.

QUESTÃO 05

Leia e analise qual a posição que os pronomes oblíquos ocupam, em relação aos verbos, nos excertos abaixo:

“Era dia de seu aniversário, e a esposa nem sequer o abraçara”

“Passada a surpresa, sentiu-se ainda mais borocochô”.

“Pois então uma estranha se lembrava dele com tais requintes, e a mulher e os filhos, nada?”

“Lá dentro, sua mulher e seus filhinhos, em coro com a secretária, esperavam-no cantando “Parabéns pra você” “.

A colocação dos pronomes oblíquos nos excertos acima possibilita a ocorrência de:

- a) Ênclise/Próclise/Ênclise/Mesóclise.
- b) Próclise/Próclise/Mesóclise/Ênclise.
- c) Mesóclise/Ênclise/Próclise/Próclise.
- d) Próclise/Mesóclise/Próclise/Próclise.
- e) Próclise/Ênclise/Próclise/Ênclise.

QUESTÃO 06

“Havia o sorriso e o abraço da secretária, **que poderia muito bem ter ignorado o aniversário**, e entretanto o lembrava.”

A classificação da oração sublinhada é:

- a) Oração coordenada sindética explicativa.
- b) Oração coordenada sindética adversativa.
- c) Oração coordenada sindética alternativa.
- d) Oração subordinada substantiva.
- e) Oração coordenada sindética aditiva.

Leia o texto abaixo para responder as questões de números 07 e 08



<https://30segundos.org>

QUESTÃO 07

Na oração “Bebo **porque** é líquido” a função do porque é:

- a) Conjunção coordenativa explicativa.
- b) Conjunção subordinativa causal.
- c) Pronome relativo.
- d) Preposição.
- e) Pronome substantivo.

QUESTÃO 08

Em “Se fosse sólido moê-lo-ia.” Assinale a alternativa em que ocorre a mesma colocação do pronome oblíquo:

- a) Encontrei-me com ela ontem.
- b) Traga-me um cafezinho.
- c) Trata-se de uma menina inteligente.
- d) Não fosse o horário, acompanhar-te-ia até sua casa.
- e) Talvez a encontre ainda hoje.

Leia o excerto abaixo para responder as questões de números 09 e 10

QUESTÃO 09

Clarissa caminhava para a varanda, Abre a gaveta da cristaleira e tira dela um bloco de papel, tinta e caneta. Senta-se junto a uma das mesas. Abre o bloco, molha a pena no tinteiro e, caneta suspensa, olhos no texto, pensa...

Érico Verissimo

No fragmento acima exposto, podemos afirmar que as reticências foram empregadas para:

- a) Indicar uma dúvida ao final de uma frase.
- b) Indicar supressão de palavras.
- c) Indicar supressão da frase.
- d) Isolar frases intercaladas.
- e) Indicar que o sentido continua ao final de uma frase.

QUESTÃO 10

No fragmento: “Clarissa caminhava para a varanda, Abre a gaveta da cristaleira e tira dela um bloco de papel, tinta e caneta.” o vocábulo sublinhado é classificado como:

- a) Conjunção
- b) Artigo.
- c) Preposição.
- d) Adjetivo.
- e) Advérbio.

MATEMÁTICA

QUESTÃO 11



<http://blogdolucianolpm.blogspot.com.br>

Foi realizada uma pesquisa num clube de campo, com um grupo de 72 pessoas, para saber as preferências sobre esportes. Assim sendo constatou-se que 32 delas preferem bicros, 24 gostam de voleibol e 10 gostam de bicros e voleibol. Sendo assim, podemos afirmar que o número de pessoas que não gostam de bicros ou voleibol é de:

- a) 42.
- b) 36.
- c) 35.
- d) 28.
- e) 26.

QUESTÃO 12

Num clube de campo houve um desfile de modas onde compareceram 2.800 pessoas sendo que 65% desse total eram mulheres. Dessas mulheres, de cada 10, 8 pagaram a entrada devido a não serem sócias do clube. Já os homens que compareceram, o percentual que pagou foi de 60%. Qual o percentual que pagou e qual o valor arrecadado se a entrada foi de R\$20,00:

- a) 35% pagaram a entrada - valor arrecadado: R\$1.960,00.
- b) 37% pagaram a entrada - valor arrecadado: R\$2.720,00.
- c) 73% pagaram a entrada - valor arrecadado: R\$40.880,00.
- d) 63% pagaram a entrada - valor arrecadado: R\$35.280,00.
- e) 53% pagaram a entrada - valor arrecadado: R\$2.968,00.

QUESTÃO 13

Ritinha tomou um táxi para ir à casa de sua avó que fica a certa distância de sua casa. A parcela fixa a ser cobrada que é a bandeirada é de R\$ 5,00 mais R\$ 2,10 por quilômetro rodado. Quantos quilômetros chegou a percorrer se pagou o valor de R\$ 24,95:

- a) 10.
- b) 8.
- c) 7,5.
- d) 9,5.
- e) 5.

QUESTÃO 14

Uma progressão aritmética cujo primeiro termo é 8 e o último é 64, sendo a razão 7, possui o seguinte número de termos:

- a) 5.
- b) 9.
- c) 10.
- d) 11.
- e) 12.

QUESTÃO 15

Caderno de Questões
MONITOR DE INFORMÁTICA

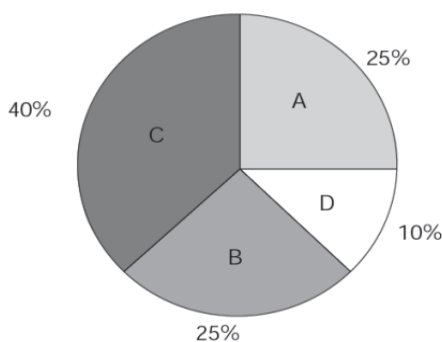
Cristiane cursa o Ensino Médio e na disciplina Matemática obteve as notas abaixo elencadas. Assim exposto, qual é a media aritmética, (Ma) mediana (Md) e moda (Mo) que Cristiana obteve:

PORTUGUÊS	
1º Bimestre	6,5
2º Bimestre	7,0
3º Bimestre	8,0
4º Bimestre	6,5

- a) Ma: 7,0/ Md: 6,75/ Mo: 6,5.
- b) Ma: 6,0/ Md: 7,5/ Mo: 7,5.
- c) Ma: 8,0/ Md: 6,25/ Mo: 7,7.
- d) Ma: 6,5/ Md: 6,5/ Mo: 6,5.
- e) Ma: 7,0/ Md: 7,5/ Mo: 7,5.

QUESTÃO 16

Numa escola, no primeiro bimestre do ano, o resultado acerca do desempenho dos alunos em Matemática, está expresso no gráfico abaixo sendo **D** ruim, **A** regular, **B** bom e **C** ótimo. Assim sendo, determine a medida do ângulo correspondente a cada tipo de desempenho na sequência: ruim, regular, bom e ótimo.



- a) 36°/ 80°/ 80°/ 164°.
- b) 22°/75°/75°/ 188°.
- c) 36°/ 90°/ 90°/ 144°.
- d) 10°/ 25°/ 25°/ 40°.
- e) 5°/ 12,5°/ 12,5°/20°.

QUESTÃO 17

Uma cozinheira de um determinado restaurante possui a opção de escolher entre 7 tipos de legumes, 3 deles para preparar o cardápio do dia. De quantas maneiras ela dispõe para realizar tal escolha:

- a) 35.
- b) 70.

- c) 21.
- d) 24.
- e) 10.

QUESTÃO 18

Na liquidação de roupas promovida pela “Loja da Esquina” o preço de uma calça foi reduzido em 8,5% e passou a custar R\$ 434,63. Qual era o seu preço anterior a liquidação:

- a) R\$ 495,00.
- b) R\$ 483,50.
- c) R\$480,00.
- d) R\$475,00.
- e) R\$471,57.

QUESTÃO 19

A sequência a seguir foi formada de acordo com uma determinada regra. Assim sendo, determine o 12º número bem como o produto do 5º número pelo 11º número da sequência:

1	3	6	10								
---	---	---	----	--	--	--	--	--	--	--	--

- a) 55 e 550.
- b) 63 e 724.
- c) 82 e 922.
- d) 76 e 882.
- e) 78 e 990.

QUESTÃO 20

Leia e considere verdadeiras as premissas a seguir:

Se Pedro é motorista, então Silene não é engenheira.

Se Silene não é engenheira, então Angélica é supervisora.

Ou Angélica não é supervisora ou Maria é estilista.

Maria não é estilista.

Pode-se concluir que:

- a) Pedro é motorista ou Angélica é supervisora.
- b) Pedro é motorista ou Angélica não é supervisora.
- c) Silene é engenheira e Pedro é motorista.
- d) Silene não é engenheira e Pedro é motorista.
- e) Angélica não é supervisora e Silene não é engenheira.

CONHECIMENTOS ESPECÍFICOS

QUESTÃO 21

Ao clicar na *Guia Layout da Página*, do *Microsoft Excel 2010*, novos painéis são exibidos logo abaixo com inúmeros botões de comando e opções com finalidades afins, distribuídos em seus respectivos *Grupos*. O painel abaixo exibido permite:



- a) Posicionar a posição do objeto selecionado da página.
- b) Alterar as propriedades avançadas da tabela.
- c) Dividir a tabela em duas bem como alterar os temas.
- d) Excluir linhas e colunas ou a célula inteira
- e) Alterar o design geral da planilha inteira, incluindo cores, fontes e efeitos.

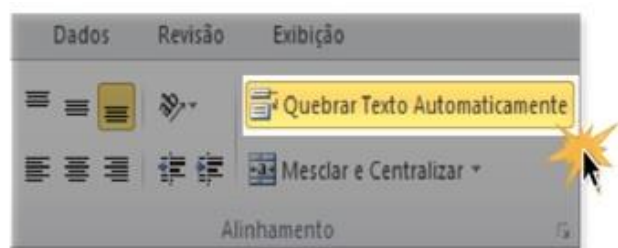
QUESTÃO 22

Para colar um item da área de transferência é possível pressionando as teclas:

- a) Ctrl + V.
- b) Ctrl + Z.
- c) F6 + Z.
- d) Alt + Page Up.
- e) Ctrl + C (ou Ctrl + Alt.)

QUESTÃO 23

A imagem abaixo é referente a um procedimento realizado no programa Excel 2010. Isto significa que:



- a) O texto vai ser apagado.
- b) Ao selecionar a célula que você deseja

ajustar e em seguida no item destacado na figura acima ela ajustará o tamanho das células para que todo o seu conteúdo seja visível dentro dela.

- c) O texto será copiado e colado em outro lugar.
- d) Ajustará o tamanho das células, porém seu conteúdo será apagado.
- e) Mudará o nome da planilha.

QUESTÃO 24

Leia as afirmativas abaixo:

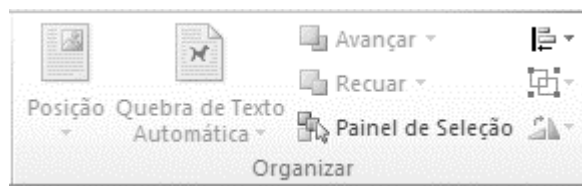
- 1. É uma rede privada de computadores dentro de uma organização.
- 2. Seu principal objetivo é compartilhar informações sobre a organização e recursos de computação entre os utilizadores.
- 3. Pode ser usada para facilitar o trabalho em grupos.

É verdadeiro afirmar que as assertivas tratam de:

- a) Extranet.
- b) Pan - Personal Area Network.
- c) Intranet.
- d) Internet.
- e) Lan.

QUESTÃO 25

De acordo com a imagem abaixo, podemos afirmar com relação ao painel Organizar do Word, que está *incorreta* a alternativa:



- a) Ele exibe a opção Posição do Objeto que permite posicionar o objeto selecionado na página. O texto será automaticamente configurado para circundar o objeto.
- b) A opção Avançar traz o objeto selecionado para frente para que menos objetos fiquem à frente dele.
- c) A opção Recuar envia o objeto selecionado para trás para que ele fique oculto atrás dos objetos à frente dele.
- d) A opção Quebra de Texto Automática não altera a forma como o texto será disposto ao

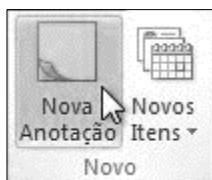
Caderno de Questões MONITOR DE INFORMÁTICA

redor do objeto selecionado. Para configurar o objeto de modo que ele se mova com o texto ao redor dele, é necessário selecionar “Alinhado com o Texto”.

- e) A opção Painel de Seleção exibe à direita da página o de Seleção e Visibilidade para mostrar os objetos existentes na página atual.

QUESTÃO 26

Considere os itens abaixo elencados e assinale V para a afirmativa verdadeira e F para a falsa, referentes ao Microsoft Outlook 2010, em se tratando de anotações:



() As anotações podem conter qualquer tipo de informação de texto e podem ser mantidas no Microsoft Outlook 2010, na área de trabalho e em outras pastas do computador.

() Na guia Página Inicial, no grupo Novo, clique em Novos Itens, e em Nova Anotação. No atalho do teclado, para criar uma anotação, pressione Ctrl+Shift+N.

() Digite o texto da anotação. Qualquer alteração feita na anotação será salva automaticamente.

() Para fechar a anotação, clique no respectivo ícone no canto superior esquerdo da janela Anotação e clique em fechar.

As afirmativas são, respectivamente, de cima para baixo:

- a) V, V, V, V.
- b) V, V, F, F.
- c) V, F, V, V.
- d) F, V, F, V.
- e) V, V, F, V.

QUESTÃO 27

Analise as imagens abaixo e assinale a alternativa *incorreta* com referência ao Word:

Imagem 1

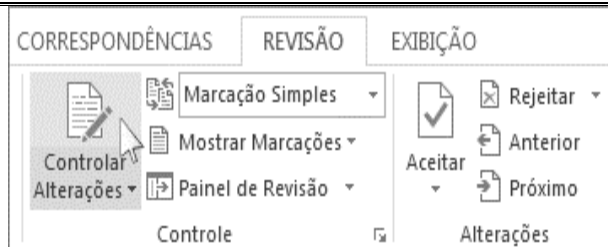
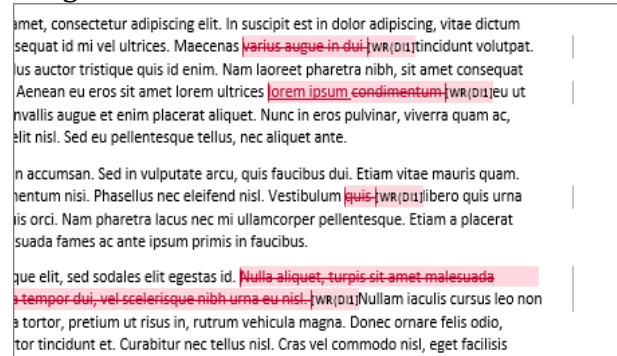


Imagem 2



- a) Para ativar o controle de alterações, na guia Revisão, no grupo Controle, é necessário clicar em Controlar Alterações.
- b) Quando o recurso Controlar Alterações é ativado, o Word marca as novas alterações feitas no documento.
- c) Quando o recurso Controlar Alterações é desativado, o Word deixa de marcar as novas alterações. Todas as alterações já controladas permanecem marcadas no documento até que sejam removidas.
- d) Para controlar alterações basta clicar em Ctrl + Shift + E.
- e) Quando o recurso Controlar Alterações é desativado, o Word marca e exibe todas as alterações que qualquer pessoa faz no documento como mostra a imagem 2 acima.

QUESTÃO 28

Leia as afirmativas abaixo:

- 1. Foi lançado em 2 de setembro de 2008 e é um navegador simples e eficaz com um visual limpo, mas com a vantagem de processar muito rápido as páginas da internet.
- 2. Hoje ele é disparado o navegador mais popular da internet com quase 60% do mercado (pesquisa 2017). Nele você pode pesquisar e navegar pela mesma caixa e organizar as guias como quiser, com rapidez e facilidade.
- 3. Ele tem uma proteção integrada contra

malware e phishing.

É verdadeiro afirmar que as assertivas tratam do navegador:

- a) Mozilla Firefox.
- b) Safari.
- c) Google Chrome.
- d) Microsoft Internet Explorer.
- e) Opera.

QUESTÃO 29

São teclas ou combinações de teclas que fornecem uma maneira alternativa de fazer algo que você normalmente faria com um mouse. A afirmação refere-se a:

- a) Janela do Word.
- b) Atalhos de teclado.
- c) Guia Layout da Página.
- d) Barras de ferramentas.
- e) Guia recuo e espaçamento.

QUESTÃO 30

“No atendimento às pessoas, a qualidade no serviço público envolve a comparação das expectativas do cidadão com a percepção do serviço entregue.”

“O serviço prestado deve atender a uma real necessidade do usuário, devendo esse serviço ser exatamente o que o usuário espera que ele seja. A manutenção da qualidade desse serviço confere, ao longo do tempo, confiabilidade à instituição.”

Entre as alternativas abaixo, assinale aquela em que um bom atendimento não requer:

- a) Utilizar frases como “bom dia”, “boa tarde”, “sente-se, por favor”, “aguarde um instante, por favor, que ditas com cordialidade promovem a empatia.
- b) Comunicar-se de forma clara, evitando utilização de gírias.
- c) Evitar distrações ou realização de atividades pessoais durante o atendimento.
- d) Demonstrar empatia com as solicitações dos cidadãos somente em último caso.
- e) A postura ética é fator que agrega valor a organização e que está diretamente relacionada às representações positivas que os usuários venham a construir a respeito da organização.

CONHECIMENTOS GERAIS

QUESTÃO 31

Itapirapuã Paulista possui alguns rios que são:

- a) Rio Catas Altas, Itapirapuã, Criminosas, Cordas Grandes, Azedo e Rio do Fecho.
- b) Itapirapuã, Cordas Grandes e Azevedo.
- c) Rio Catas Altas, Itapirapuã, Criminosas, Cordas Grandes e Rio Azedo.
- d) Criminosas, Cordas Grandes, Azedo e Rio do Fecho.
- e) Itapirapuã, Criminosas, Cordas Grandes, Azedo e Rio do Fecho.

QUESTÃO 32

As atividades econômicas do município de Itapirapuã Paulista estão entre a cultura de subsistência e são:

- a) Arroz, feijão, milho e pecuária.
- b) Feijão, milho e pecuária.
- c) Arroz, feijão, milho, extração e plantio de Pinus e pecuária.
- d) Arroz, milho e pecuária.
- e) Extração e plantio de Pinus e pecuária.

QUESTÃO 33

Os municípios limítrofes de Itapirapuã Paulista são:

- a) Ribeira (SP), Barra do Chapéu (SP), Sengés (PR), Doutor Ulisses (PR).
- b) Ribeira (SP), Barra do Chapéu (SP), Sengés (PR), Doutor Ulisses (PR), Cerro Azul (PR).
- c) Barra do Chapéu (SP), Sengés (PR), Doutor Ulisses (PR) Cerro Azul (PR).
- d) Ribeira (SP), Barra do Chapéu (SP), Doutor Ulisses (PR), Cerro Azul (PR).
- e) Ribeira (SP), Barra do Chapéu (SP), Sengés (PR), Cerro Azul (PR).

QUESTÃO 34

Morreu na noite da sexta 23 de março de 2018, aos 82 anos, no Hospital Brasília, por falência múltipla dos órgãos, o jornalista _____ Mineiro de Araxá, participou da cobertura de momentos importantes da história do Brasil e do mundo. Trata-se do jornalista:

- a) Décio de Sá.
- b) Valério Luiz.
- c) Paulo Roberto Cardoso.

Caderno de Questões
MONITOR DE INFORMÁTICA

- d) Antônio Carlos Drummond.
e) Laércio Souza.

QUESTÃO 35

O país vive uma inflação meteórica, com escassez de alimentos e de produtos de necessidade básica. Venezuelanos enfrentam uma situação complicada. Nos mercados, faltam alimentos, produtos de higiene e remédios. A inflação se encontra acima de 800% ao ano, aumentando o preço de insumos básicos, quando esses conseguem ser encontrados. A situação caótica provocou uma forte onda migratória de venezuelanos miseráveis para os países vizinhos da América Latina, principalmente o Brasil.

<https://www.opovo.com.br/jornal/politica/2018/03/os-percalcos-de-quem-deixou-a-venezuela-e-se-refugia-no-brasil.html>

A principal entrada para o Brasil fica no estado de:

- a) Tocantins.
b) Amazonas.
c) Pará.
d) Maranhão.
e) Roraima.

QUESTÃO 36

A vice-presidente do Tribunal Regional Federal da 4.^a Região (TRF-4), desembargadora Maria de Fátima Freitas Labarrère, negou na sexta-feira, 4 de maio de 2018, recurso da defesa de Lula para que fosse suspensa a decisão da 8.^a Turma da Corte que condenou o ex-presidente a 12 anos e 1 mês de reclusão, com a execução provisória da pena de prisão.

<http://www.jb.com.br/pais/noticias/2018/05/04/dese-mbargadora-nega-suspender-efeitos-da-condenacao-de-lula/>

A pena é relacionada a crimes:

- a) De corrupção passiva e lavagem de dinheiro.
b) Eleitorais.
c) De corrupção ativa.
d) De peculato.
e) De ocultação de bens.

QUESTÃO 37

O Palácio do Planalto oficializou a saída de Maurício Quintella do Ministério dos

Transportes. Ele é deputado federal pelo PR e disputará o Senado nas eleições deste ano. A exoneração foi publicada em edição extra do Diário Oficial da União, na quinta-feira 29 de março de 2018.

<https://www.bocaonews.com.br/noticias/politica>

Na mesma publicação, o governo nomeou _____, secretário executivo da pasta, que será o ministro interino até que o governo decida quem será o novo titular.

- a) Romero Jucá.
b) Fabiano Silveira.
c) Henrique Eduardo Alves.
d) Herbert Drummond.
e) Marcelo Calero.

QUESTÃO 38

A Escola de samba vencedora do carnaval 2018, do Rio de Janeiro foi a:

- a) Império Serrano.
b) Beija-Flor de Nilópolis.
c) São Clemente.
d) Mangueira.
e) União da Ilha.

QUESTÃO 39

A PF (Polícia Federal) encontrou obras de arte em cobertura do doleiro, um dos principais alvos da operação Câmbio, Desligo deflagrada na quinta-feira 3 de maio de 2018. Ele é:

- a) Vincius Claret.
b) Sílvio Anspach.
c) Juan Miguel.
d) Marco Matalon.
e) Dário Messer.

QUESTÃO 40

Em 2018, completa-se 100 anos da morte do autor do nosso Hino à Bandeira e um dos escritores mais importantes do Parnasianismo no Brasil. Ele é:

- a) Casimiro de Abreu.
b) Gonçalves Dias.
c) Olavo Bilac.
d) Castro Alves.
e) Alvares de Azevedo.