



**SERVIÇO AUTÔNOMO DE ÁGUA E ESGOTO DE
CAPIVARI - SAAE**

CONCURSO PÚBLICO Nº 01/2016

MOTORISTA

**CADERNO DE
QUESTÕES**

ABRA SOMENTE QUANDO AUTORIZADO

Nome do Candidato: _____

Assinatura: _____

Concurso Realizado pela:



Planexcon
ASSESSORIA E CONSULTORIA PÚBLICA

Contato:

contato@planexcon.com.br

Tel0xx15 3282-3542

INSTRUÇÕES

1. Este Caderno contém 07 páginas com questões de múltipla escolha, assim distribuídas:
 - **Português**, com 10 questões enumeradas de 01 a 10;
 - **Matemática**, com 10 questões enumeradas de 11 a 20;
 - **Conhecimentos Específicos**, com 10 questões, enumeradas de 21 a 30;
 - **Conhecimentos Gerais**, com 10 questões, enumeradas de 31 a 40.
2. Cada questão contém 5 (cinco) alternativas (a, b, c, d, e), das quais somente uma atende às condições do enunciado.
3. Esta prova terá a duração de 3 horas, incluído o tempo necessário para preenchimento do Gabarito de Resposta, sendo permitida a saída do candidato da sala de prova somente após 30 minutos do seu início.
4. Responda a todas as questões. Para cômputo da nota, serão considerados apenas os acertos.
5. Não será permitido ao candidato o destaque de qualquer página da prova.
6. Não é permitido, em hipótese alguma, o empréstimo de qualquer objeto.
7. Não se atenha às questões que julgar difíceis, volte a elas se lhe sobrar tempo.
8. Estando as questões respondidas neste caderno, você deverá transcrever todas as alternativas assinaladas para o Gabarito de Respostas, utilizando caneta esferográfica de tinta preta ou azul.
9. Você receberá do Fiscal o Gabarito de Respostas. Verifique se estão em ordem e com todos os dados impressos corretamente. Caso contrário, notifique o Fiscal, imediatamente.
10. Após certificar-se de que a Gabarito de Respostas é seu, assine-o com caneta esferográfica de tinta preta ou azul no local em que há a indicação: "ASSINATURA DO (A) CANDIDATO (A)".
12. A folha de respostas não deve ser dobrada, amassada ou rasurada.
13. É de inteira responsabilidade do candidato qualquer prejuízo advindo de marcação incorreta efetuada no Gabarito de Respostas - Atenção: **O Gabarito de Respostas não será substituído em hipótese alguma.**
14. Serão nulas as respostas rasuradas ou múltiplas para uma mesma questão.

Boa Prova!

LÍNGUA PORTUGUESA

Leia o texto a seguir para responder as questões de números 01 a 10:

Pneu Furado

O carro estava encostado no meio-fio, com um pneu furado. De pé, ao lado do carro, olhando desconsoladamente para o pneu, uma moça muito bonitinha. Tão bonitinha que atrás parou outro carro e dele desceu um homem dizendo: “Pode deixar”. Ele trocaria o pneu.

- Você tem macaco? – perguntou o homem.

- Não – respondeu a moça.

- Tudo bem, eu tenho – disse o homem.

- Você tem estepe?

- Não – disse a moça.

- Vamos usar o meu – disse o homem.

E pôs-se a trabalhar, trocando o pneu, sob o olhar da moça. Terminou no momento em que chegava o ônibus que a moça estava esperando. Ele ficou ali, suando, de boca aberta, vendo o ônibus se afastar. Dali a pouco chegou o dono do carro.

- Puxa, você trocou o pneu pra mim. Muito obrigado.

- É. Eu ... Eu não posso ver pneu furado. Tenho que trocar.

- Coisa estranha.

- É uma compulsão. Sei lá.

Luís Fernando Veríssimo

QUESTÃO 01

O texto “Pneu furado” é contado por:

- a) Uma moça muito bonitinha.
- b) Luís Fernando Verissimo.
- c) Um homem que trocou o pneu do carro.
- d) O dono do carro.
- e) Alguém que passava pela rua.

QUESTÃO 02

O homem parou seu carro e dele desceu, dizendo à moça “**pode deixar**”. Ele tomou essa atitude, pois:

- a) Está se divertindo com a situação.
- b) É bondoso.
- c) Gosta de trocar pneu.
- d) Acredita que o carro com pneu furado é da moça muito bonitinha.
- e) Pensa em atropelar a moça.

QUESTÃO 03

De acordo com o texto “Pneu furado”, assinale a alternativa **incorreta**:

- a) Ao lado do carro encostado, com um pneu furado, estava uma moça muito bonitinha.
- b) Para trocar o pneu desceu um homem de outro carro.
- c) Ele resolveu trocar o pneu, pois pensou que o carro era da moça.
- d) A moça não tinha macaco e nem estepe.
- e) A moça não olhava para o trabalho que o homem executava.

QUESTÃO 04

“Ele ficou ali, **suando, de boca aberta**, vendo o ônibus se afastar”. Isso significa que o homem ficou:

- a) Admirado e alegre.
- b) Feliz e contente.
- c) Cansado e surpreso.
- d) Triste e assustado.
- e) Aborrecido e indignado.

QUESTÃO 05

O principal assunto do texto é:

- a) A troca de pneu por engano.
- b) O dono do carro.
- c) A moça desconsolada.
- d) O carro.
- e) A moça e o ônibus.

QUESTÃO 06

“Terminou no **momento** em que chegava o ônibus que a moça estava esperando”.

A palavra “**momento**” pode ser substituída no texto, por:

- a) Segundo.
- b) Hora.
- c) Minuto.
- d) Ocasão.
- e) Instante.

QUESTÃO 07

Na frase “É uma **compulsão**”, o vocábulo em destaque tem o significado de:

- a) Gosta de trocar pneu.
- b) É um prazer.
- c) Não consegue resistir.
- d) Não sabe explicar.
- e) É um hábito.

QUESTÃO 08

"De pé, ao lado do carro, olhando desconsoladamente para o pneu, uma moça muito bonitinha", a palavra **desconsoladamente** é antônima de:

- a) Triste.
- b) Alegrementemente.
- c) Sem consolo.
- d) Tristemente.
- e) Furiosamente.

QUESTÃO 09

As palavras estão acentuadas corretamente na alternativa:

- a) Pé – ônibus.
- b) Môça – pé.
- c) Onibus – lá.
- d) Atras – estepe.
- e) Sôb – lá.


QUESTÃO 10

A alternativa em que a palavra está dividida corretamente, de acordo com a divisão silábica é a:

- a) Carro: ca-rro.
- b) Pneu: pn-e-u.
- c) Bonitinha: bo-ni-tin- ha.
- d) Deixar: dei- xar.
- e) Ônibus: ôni-bus.

MATEMÁTICA

QUESTÃO 11



<http://recordandomatematica.blogspot.com.br/2014/05/as-operacoes-basicas-da-matematica.html>. Acesso em: 17/4/2016

Os sinais que aparecem acima representam as quatro operações fundamentais da Matemática. Pela ordem da imagem, eles representam:

- a) Adição, Divisão, Multiplicação, Subtração.
- b) Divisão, Subtração, Multiplicação, Adição.
- c) Adição, Subtração, Multiplicação, Divisão.

- d) Multiplicação, Subtração, Adição, Divisão.
- e) Subtração, Adição, Multiplicação, Divisão.

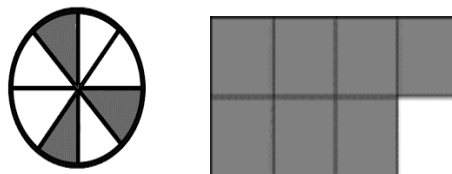
QUESTÃO 12

De quatro centenas e meia de pés de eucaliptos, foram derrubados 0,6. Quantos pés ficaram:

- a) 180.
- b) 390.
- c) 270.
- d) 444.
- e) 186.

QUESTÃO 13

Observe as figuras abaixo:

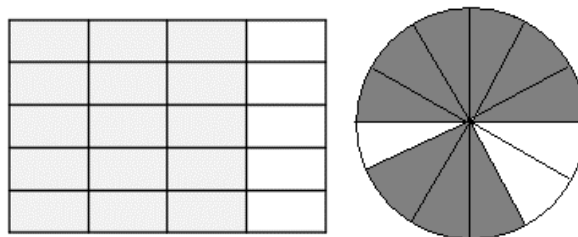


Somando-se as partes coloridas das duas figuras, obteremos a fração:

- a) $6/8$.
- b) $8/8$.
- c) $10/16$.
- d) $10/8$.
- e) $5/8$.

QUESTÃO 14

As figuras abaixo correspondem aos seguintes números decimais:



- a) 0,15 e 0,3.
- b) 0,75 e 0,75.
- c) 0,15 e 0,9.
- d) 0,05 e 0,03.
- e) 0,20 e 0,12.

QUESTÃO 15



BICICLETA em PROMOÇÃO

Preço: R\$ 880,00

Na promoção, Maria comprou o produto acima e deu 50% de entrada. O valor restante vai pagar em quatro prestações iguais, sendo cada uma no valor de:

- a) R\$ 88,00.
- b) R\$ 220,00.
- c) R\$ 120,00.
- d) R\$ 55,00.
- e) R\$ 110,00.

QUESTÃO 16

Luís faz o percurso de sua casa até o local onde trabalha em $\frac{2}{5}$ de hora. Quantos minutos ele leva para fazer o percurso:

- a) 14 minutos.
- b) 30 minutos.
- c) 10 minutos.
- d) 24 minutos.
- e) 12 minutos.

QUESTÃO 17



http://cejarj.cecierj.edu.br/pdf/Unidade8_Mat.pdf

A sala da planta representada acima mede 4,30 m de comprimento por 3,50 m de largura, conforme mostra a planta. Qual a área da sala:

- a) 7,80 m².
- b) 15,05 m².
- c) 8,60 m².
- d) 7,00 m.
- e) 15,60 m².

QUESTÃO 18

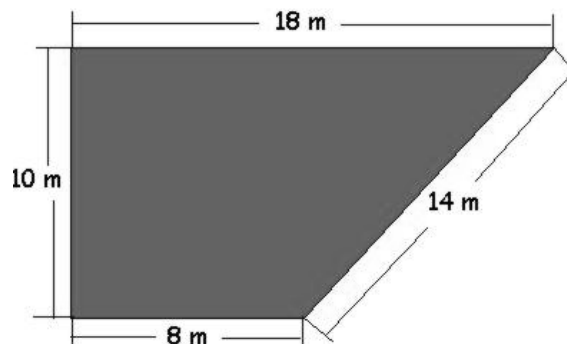
Na hora indicada no relógio, Regina levou o frango ao forno para assar. Ficou 45 minutos no forno. Que horas o frango ficou pronto?



- a) 7 horas e 5 minutos.
- b) 7 horas e 50 minutos.
- c) 8 horas e 5 minutos.
- d) 7 horas e 10 minutos.
- e) 7 horas e 15 minutos.

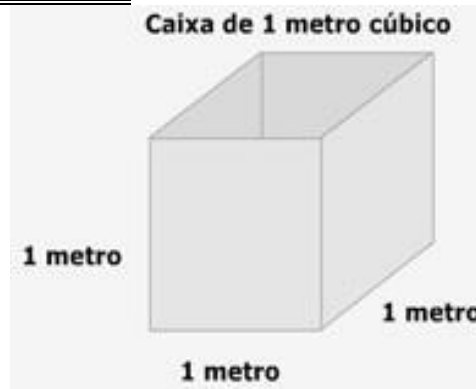
QUESTÃO 19

Juca comprou um terreno que está representado abaixo. Quantos metros de arame serão necessários para cercá-lo se ele pretende utilizar seis voltas de arame:



- a) 255.
- b) 305.
- c) 50.
- d) 318.
- e) 300.

QUESTÃO 20



<http://portaldoprofessor.mec.gov.br>

Utilizando-se a caixa acima para encher de água a ser consumida durante quatro dias da semana, o total de litros consumidos é de:

- a) 400.
- b) 40.
- c) 4.000.
- d) 40.000.
- e) 400.000.

CONHECIMENTOS ESPECÍFICOS

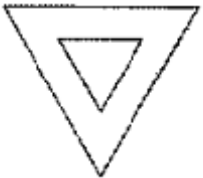
QUESTÃO 21

Qual dos sinais abaixo não é de regulamentação:

a)



b)



c)



d)



e)



QUESTÃO 22

Com relação à sinalização de advertência, assinale a alternativa *incorreta*:

- a) Tem por finalidade informar aos usuários as condições, proibições, obrigações, ou

restrições no uso das vias. Suas mensagens são imperativas e o desrespeito a elas constitui infração.

- b) Tem por finalidade alertar os usuários da via para condições potencialmente perigosas, indicando sua natureza.
- c) A forma padrão dos sinais de advertência é quadrada, devendo uma das diagonais ficar na posição vertical.
- d) Estão associadas as cores amarela e preta.
- e) A Cruz de Santo André é uma sinalização de advertência.

QUESTÃO 23

Dentre as placas abaixo, indique aquela que *não* corresponde a uma placa de identificação de limite de municípios, divisa de estados, fronteira ou perímetro urbano:

a)



b)



c)



d)



e)



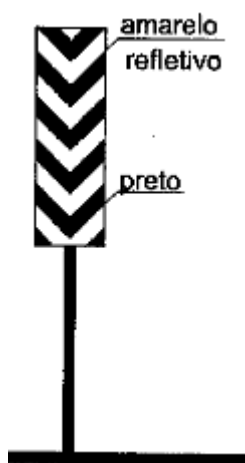
QUESTÃO 24

Sabe-se que a Sinalização Horizontal é um subsistema da sinalização viária que se utiliza de linhas, marcações, símbolos e legendas, pintados ou apostos sobre o pavimento das vias. Dentre as alternativas abaixo, assinale aquela **não** corresponde a uma função da sinalização horizontal:

- a) Organizar o fluxo de veículos e pedestres.
- b) Controlar e orientar os deslocamentos em situações com problemas de geometria, topografia ou frente a obstáculos.
- c) Transmitir mensagens de caráter permanente e, eventualmente, variáveis, através de legendas e/ou símbolos pré-reconhecidos e legalmente instituídos.
- d) Complementar os sinais verticais de regulamentação, advertência ou indicação.
- e) Em casos específicos, tem poder de regulamentação.

QUESTÃO 25

Analise a imagem abaixo e assinale a opção **incorreta**:



- a) Trata-se de um dispositivo de sinalização de alerta.
- b) É um dispositivo denominado marcador de obstáculo.
- c) Está inserido como sinalização de alerta como sendo um marcador de perigo.
- d) É destinada a alertar o condutor do veículo quanto a situação potencial de perigo.
- e) É um marcador que indica que a passagem poderá ser feita tanto pela direita como pela esquerda.

QUESTÃO 26

De acordo o artigo 12 do Código de Trânsito Brasileiro (Lei nº 9.503, de 23 de setembro de 1997) é de competência do CONTRAN – Conselho Nacional de Trânsito:

- a) Normatizar os procedimentos sobre a aprendizagem, habilitação, expedição de documentos de condutores, e registro e licenciamento de veículos.
- b) Estimular e orientar a execução de campanhas educativas de trânsito.
- c) Julgar os recursos interpostos contra decisões das JARI.
- d) Encaminhar aos órgãos e entidades executivos de trânsito e executivos rodoviários informações sobre problemas observados nas autuações e apontados em recursos, e que se repitam sistematicamente.
- e) Realizar o patrulhamento ostensivo, executando operações relacionadas com a segurança pública, com o objetivo de preservar a ordem, incolumidade das pessoas, o patrimônio da União e o de terceiros.

QUESTÃO 27

Qual das alternativas abaixo está relacionada **exclusivamente** à circulação nas vias por **passageiros** de motocicletas, motonetas e ciclomotores:

- a) Só poderão circular utilizando capacete de segurança, com viseira ou óculos protetores.
- b) Só poderão circular segurando o guidom com as duas mãos.
- c) Só poderão circular usando vestuário de proteção, de acordo com as especificações do CONTRAN.
- d) Só poderão circular em carro lateral acoplado aos veículos ou em assento suplementar atrás do condutor.
- e) Todas as alternativas estão corretas.

QUESTÃO 28

A velocidade máxima permitida para a via será indicada por meio de sinalização, obedecidas suas características técnicas e as condições de trânsito.

De acordo com o CTB, onde não existir sinalização regulamentadora, a velocidade máxima nas vias urbanas será de:

- a) Oitenta quilômetros por hora, nas vias arteriais.
- b) Sessenta quilômetros por hora, nas vias de trânsito rápido.
- c) Quarenta quilômetros por hora, nas vias locais.
- d) Trinta quilômetros por hora, nas vias coletoras.
- e) Todas as alternativas estão incorretas.

QUESTÃO 29

De acordo com a atual redação do CTB, com relação às categorias de habilitação, analise as descrições abaixo e assinale a alternativa correta:

I - Categoria A - condutor de veículo motorizado de duas ou três rodas, com ou sem carro lateral;

II - Categoria B - condutor de veículo motorizado, não abrangido pela categoria A, cujo peso bruto total não exceda a três mil e quinhentos quilogramas e cuja lotação não exceda a oito lugares, excluído o do motorista;

III - Categoria C - condutor de veículo motorizado utilizado em transporte de carga, cujo peso bruto total exceda a três mil e quinhentos quilogramas;

IV - Categoria D - condutor de veículo motorizado utilizado no transporte de passageiros, cuja lotação exceda a oito lugares, excluído o do motorista;

V - Categoria E - condutor de combinação de veículos em que a unidade tratora se enquadre nas Categorias B, C ou D e cuja unidade acoplada, reboque, semi-reboque ou articulada, tenha seis mil quilogramas ou mais de peso bruto total, ou cuja lotação exceda a oito lugares, ou, ainda, seja enquadrado na categoria trailer.

- a) Somente I, II e III estão corretas.
- b) I, II, III, e IV estão corretas.
- c) Somente I e IV estão incorretas.
- d) I, II, V estão corretas.
- e) Todas estão corretas.

QUESTÃO 30

De acordo com o CTB, ter o veículo imobilizado na via por falta de combustível:

- a) Constitui uma infração média, punida com penalidade de multa.

- b) É uma infração leve penalizada com multa (três vezes) e apreensão do veículo.
- c) Não gera a medida administrativa de remoção do veículo.
- d) É uma infração grave que gera penalidade de multa, apreensão do veículo e suspensão do direito de dirigir.
- e) É uma infração gravíssima que gera apenas a penalidade de multa.

CONHECIMENTOS GERAIS

QUESTÃO 31

Nas eleições estaduais realizadas em 2014, com 52,31% dos votos, foi eleito para governar o estado de São Paulo:

- a) Geraldo Alckmin.
- b) Alexandre Padilha.
- c) Paulo Skaf.
- d) Gilberto Natalini.
- e) Gilberto Maringoni de Oliveira.

QUESTÃO 32

Com referência ao município de Capivari, **não** é seu vizinho:

- a) Elias Fausto.
- b) Mombuca.
- c) Porto Feliz.
- d) Tietê.
- e) Rafard.

QUESTÃO 33

Por ser a terra natal dos poetas Amadeu Amaral, Rodrigues de Abreu e Alexandre Rossi, o município de Capivari é conhecido como:

(<https://pt.wikipedia.org/wiki/Capivari>)

- a) Terra dos Poemas.
- b) Terra das Letras.
- c) Terra dos Poetas.
- d) Terra Romântica.
- e) Terra Poetiza.

QUESTÃO 34

Pelo menos 480 mortos, 2.560 feridos e 1.700 desaparecidos é o novo balanço do poderoso terremoto que, em 19 de abril de 2016, atingiu:

<http://g1.globo.com/mundo/noticia/2016/04/novo-terremoto>

- a) O Chile.
- b) O Equador.

